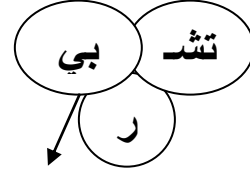
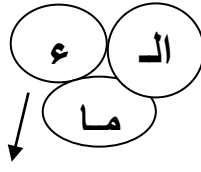
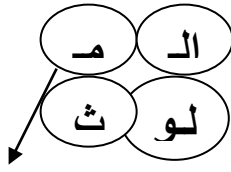


القراءة السنة الأولى	اختبار الثلاثي الأول 2005-2006	دائرة بوفيشة مدرسة فرحات حشاد
القسم: الأولى	ديسمبر 2005	الاسم و اللقب:

<p>يلعب مراد مع كريمة في الحديقة الواسعة وتلعب ميمي مع السلحفاة قرب الغدير. يرمي مراد الكرة وكريمة تلقفها. تعموم السلحفاة في الغدير وتشرب من الماء الملوّث. قالت ميمي : « ما بك يا بادرة ؟ ماذا حدث ؟ »</p>	<p><u>أقرأ</u></p>	<p>مع 1 أ [] مع 1 ب [] مع 1 ج []</p>
<p><u>معالجة النص</u></p>	<p><u>التعليمة 1:</u> أضع علامة (x) أمام اسم السلحفاة.</p>	<p>مع 2 أ []</p>
<p>[] ميمي [] بادرة [] توتو []</p>	<p><u>التعليمة 2:</u> ألون الجمل المناسبة للنص.</p>	<p>مع 2 أ []</p>
<p>تلعب السلحفاة مع ميمي قرب الغدير يرمي مراد الكرة وميمي تلقفها تشرب بادرة من الماء الملوّث</p>	<p><u>التعليمة 3:</u> أربط كل جملة بما يفيد معناها.</p>	<p>مع 2 ب [] مع 2 ب [] مع 2 ب []</p>
<p>تسبح السلحفاة في الغدير الحديقة الكبيرة يمرح مراد في الحديقة</p>	<p>يلعب مراد في الحديقة تعموم السلحفاة في الغدير الحديقة الواسعة</p>	

التعليمة 4 : أرتب المقاطع لأعرف بماذا نصحت ميمي بادرة .



من

لا

مع 3

لا من ستمرضين.

جدول إسناد الأعداد

المجموع	مع 3	مع 2 ب	مع 2 أ		مع 1			المعايير مستويات التمك انعدام التملك دون التملك الأدنى التمك الأدنى التمك الأقصى
			العدد	عدد الإجابات	مع 1 ج	مع 1 ب	مع 1 أ	
0	0	0	0	0	0	0	0	انعدام التملك
4.75			0.75	1	1	1.5	1.5	دون التملك الأدنى
6.25	0.75	0.75	1.5	2				
10.75			2.25	3	2	2	3	التمك الأدنى
13	1.5	1.5	3	4				
18.25	2.25	2.25	3.75	5	3	3.5	4.5	التمك الأقصى
20			4.5	6				