
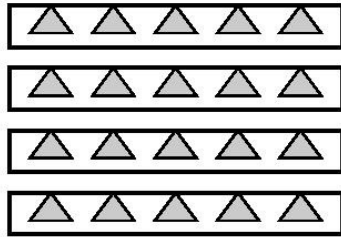



اكتب عبارة القسمة:



$$\square \quad \square \div \square$$



$$\square \quad \square \div \square$$



$$\square \quad \square \div \square$$


مثل من خلال الرسم مفهوم القسمة:



$$\square = \square \div \square$$



$$\square = \square \div \square$$




$$\square \quad \square \quad \square$$

$$\square \quad \square \div \square$$

$$\square \quad \square \div \square$$

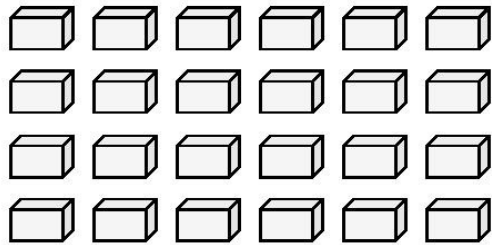
أكمل :



$$20 = 5 \times 4$$

$$\square \quad \square \div \square$$


$$\square \quad \square \div \square$$



$$\square$$

$$\square \div \square$$

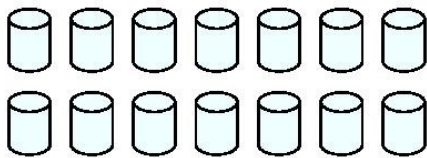
$$\square \div \square$$



$$\square = \square \times \square$$

$$\square \div \square = \square$$


$$\square = \square \div \square$$



$$\square$$

$$\square \div \square = \square$$

$$\square \div \square = \square$$




$$\square = \square \times \square$$

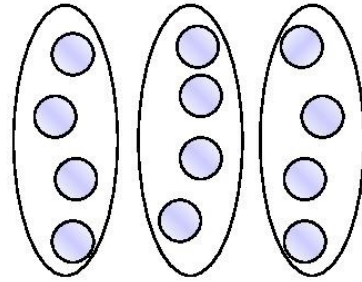
$$\square = \square \div \square$$

$$\square = \square \div \square$$

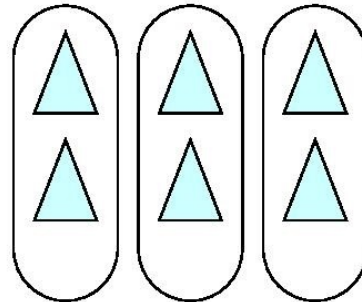

** اكتب عبارة القسمة المناسبة :



$$\square = \square \div \square$$



$$\square = \square \div \square$$



استخرج أكثر من عبارة قسمة من كل عبارة ضرب :

$$54 = 6 \times 9$$

$$= \div$$

$$= \div$$

$$45 = 9 \times 5$$

$$= \div$$

$$= \div$$

$$40 = 5 \times 8$$

$$48 = 8 \times 6$$

$$\square = 7 \times 7$$

$$\square = 9 \times 9$$

$$\square = 7 \div$$

$$\square = 9 \div \square$$

* اكتب رمز العدد المناسب :

$$2 = \square \div 14$$

$$1 = \square \div 8$$

$$3 = 4 \div \square$$

$$\square = 6 \div 24$$

$$\square = 9 \div 36$$

$$= \square \div 54$$

$$7 = 7 \div \square$$

$$5 = \square \div 20$$

اكتب رمز العملية المناسبة :

1- كم خمسة في العدد 30 ؟

2- كم سبعة في العدد 28 ؟

3- كم ثمانية في العدد 40 ؟

4- كم واحد في العدد 9 ؟

5- كم ستة في العدد 6 ؟

6- كم أسبوعاً في 35 يوم ؟

شارك زميلك شفويا ثم اكتب الإجابة :

$$\begin{array}{r} 7 \\ 9 \times \\ \hline \square \end{array}$$

$$\begin{array}{r} 3 \\ 7 \times \\ \hline \square \end{array}$$

$$\begin{array}{r} 9 + \\ \hline \square \end{array}$$

$$\begin{array}{r} 6 - \\ \hline \square \end{array}$$

$$\begin{array}{r} 8 \div \\ \hline \square \end{array}$$

$$\begin{array}{r} 55 \\ 17 + \\ \hline \square \end{array}$$

$$\begin{array}{r} 1+ \\ \hline \square \end{array}$$

$$\begin{array}{r} 9 - \\ \hline \square \end{array}$$

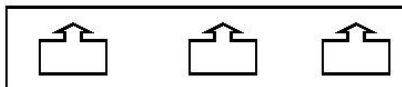
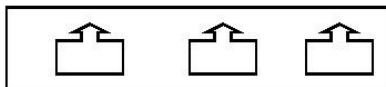
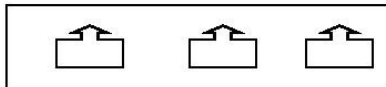
$$\begin{array}{r} 9 \div \\ \hline \square \end{array}$$

$$\begin{array}{r} 4 \div \\ \hline \square \end{array}$$

$$\begin{array}{r} 5 \times \\ \hline \square \end{array}$$

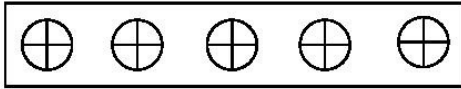
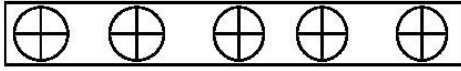
$$\begin{array}{r} 39 - \\ \hline \square \end{array}$$

1- اكتب عبارة القسمة كما في المثال:



$$= \square \div \square$$

$$\boxed{3} \div \boxed{12}$$



$$= \square \div \square$$



$$= \square \div \square$$

$$4 = 5 \div 20$$

$$4 = 4 \div 16$$

اقرأ السؤال ثم شارك زملاءك في المجموعة إيجاد الناتج:

في صفنا 24 تلميذاً، قام المعلم بتقسيم التلاميذ إلى 4 مجموعات. كم تلميذاً في المجموعة الواحدة؟

.....

مع والدي 27 درهماً يريد أن يوزعها على أولاده الثلاث. كم
درهماً أخذ كل واحد؟

.....

عندي 12 كتاباً في مكتبي موزعة على 4 رفوف بالتساوي.
كم كتاباً في كل رفّ؟

.....

كم أسبوعاً في 56 يوماً؟

.....