


نمارين متنوعة الرياضيات

السنة 1 ابتدائي



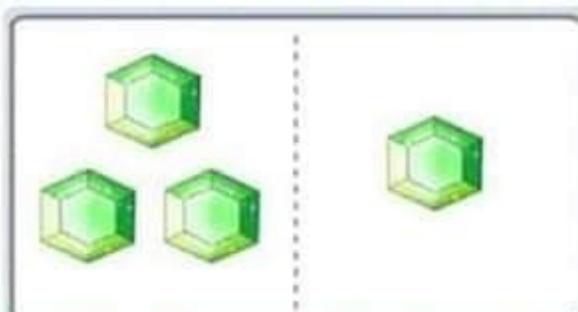
تمارين في الرياضيات للسنة الاولى ابتدائي
الاعداد والحساب



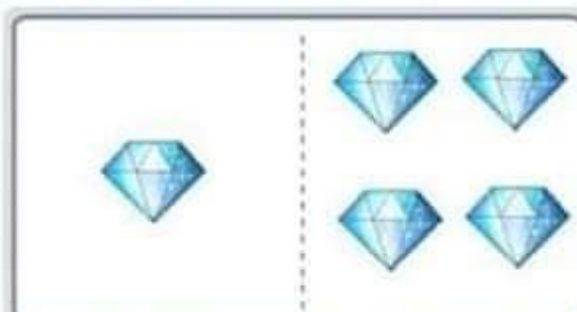
$$1 + 2 = \square$$



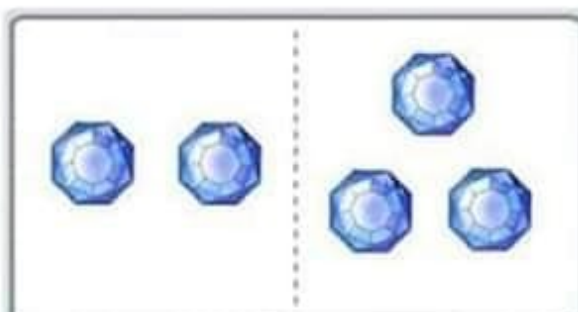
$$1 + 1 = \square$$



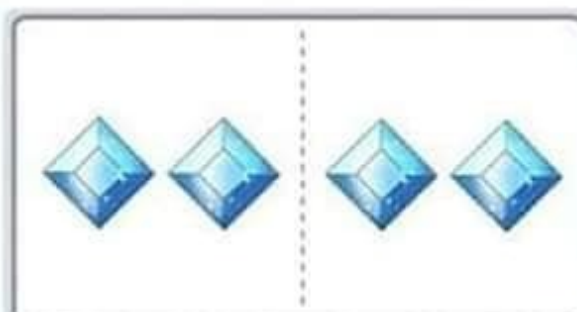
$$3 + 1 = \square$$



$$1 + 4 = \square$$




$$2 + 3 = \square$$




$$2 + 2 = \square$$


تمارين في الرياضيات للسنة الاولى ابتدائي
الاعداد والحساب




$$4 + 3 = \square$$



$$1 + 6 = \square$$




$$4 + 5 = \square$$



$$3 + 5 = \square$$




$$2 + 5 = \square$$




$$4 + 4 = \square$$


تمارين في الرياضيات للسنة الاولى ابتدائي
الاعداد والحساب



$$6 + 3 = \square$$



$$4 + 2 = \square$$




$$2 + 5 = \square$$



$$4 + 4 = \square$$




$$3 + 4 = \square$$




$$6 + 1 = \square$$

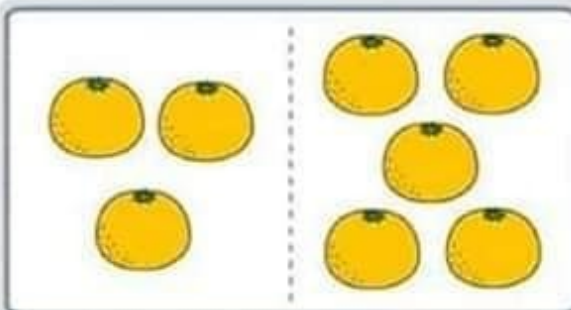
تمارين في الرياضيات للسنة الاولى ابتدائي
الاعداد والحساب



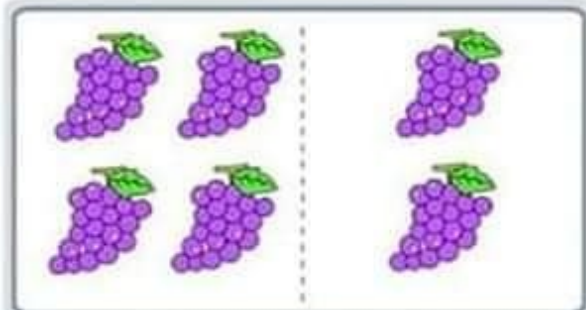
$4 + 5 = \square$



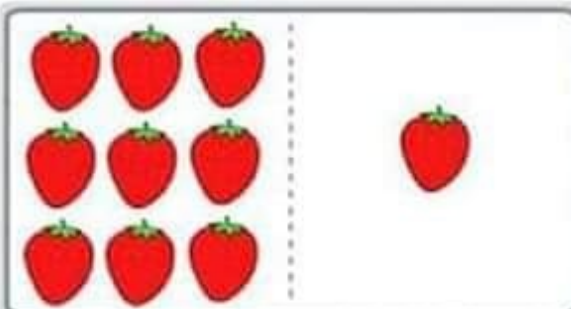
$2 + 6 = \square$



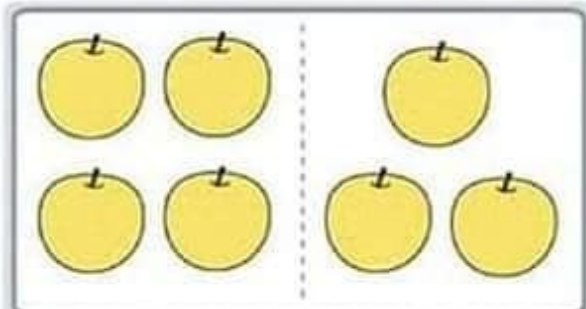
$3 + 5 = \square$



$4 + 2 = \square$




$9 + 1 = \square$




$4 + 3 = \square$

تمارين في الرياضيات للسنة الاولى ابتدائي
الاعداد والحساب



$$3 + 1 = \square$$




$$2 + 1 = \square$$




$$2 + 3 = \square$$



$$1 + 3 = \square$$




$$4 + 1 = \square$$




$$2 + 2 = \square$$

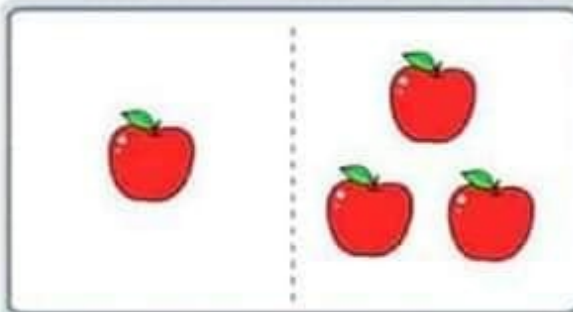
تمارين في الرياضيات للسنة الاولى ابتدائي
الاعداد والحساب



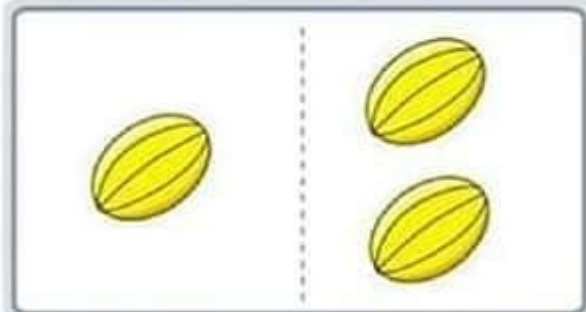
$$2 + 2 = \square$$



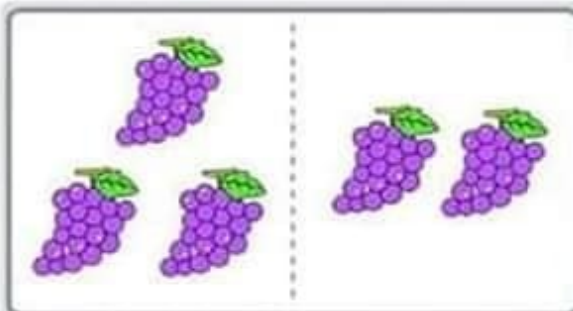
$$1 + 1 = \square$$



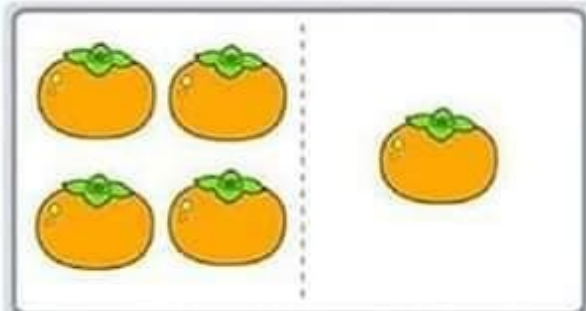
$$1 + 3 = \square$$



$$1 + 2 = \square$$




$$3 + 2 = \square$$

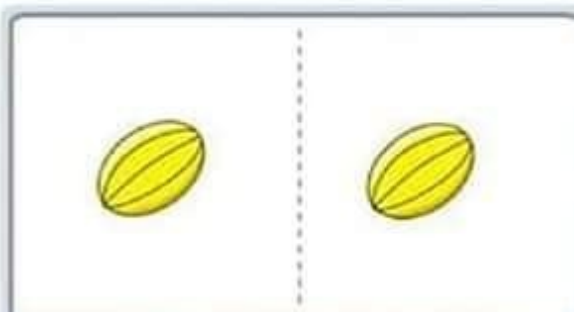


$$4 + 1 = \square$$

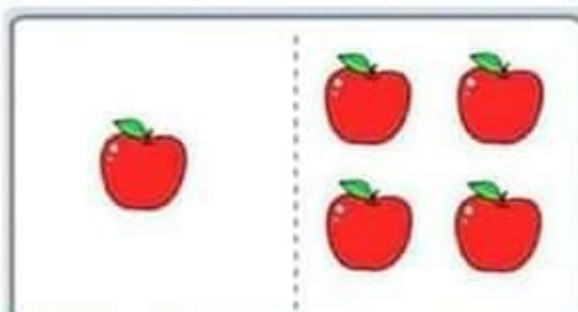
تمارين في الرياضيات للسنة الاولى ابتدائي
الاعداد والحساب



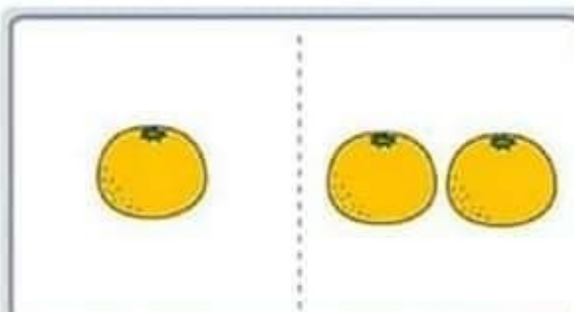
$$2 + 1 = \square$$




$$1 + 1 = \square$$



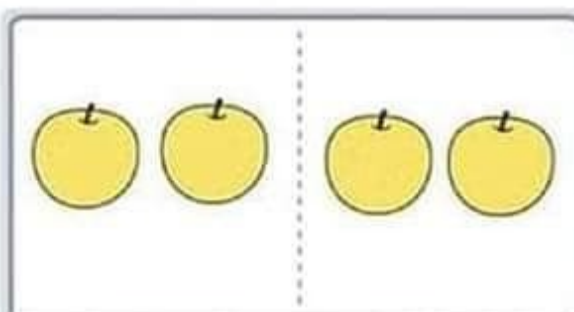
$$1 + 4 = \square$$



$$1 + 2 = \square$$




$$4 + 1 = \square$$




$$2 + 2 = \square$$

تمارين في الرياضيات للسنة الاولى ابتدائي
الاعداد والحساب




$2 + 3 = \square$



$1 + 2 = \square$




$4 + 1 = \square$



$3 + 1 = \square$

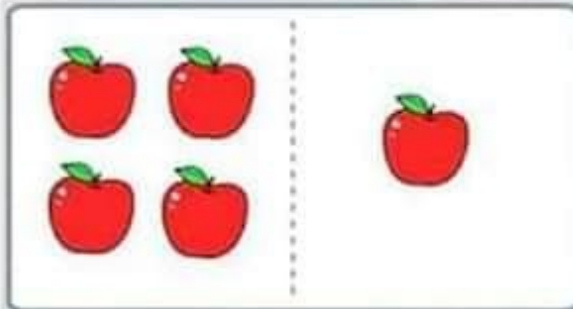


$2 + 1 = \square$

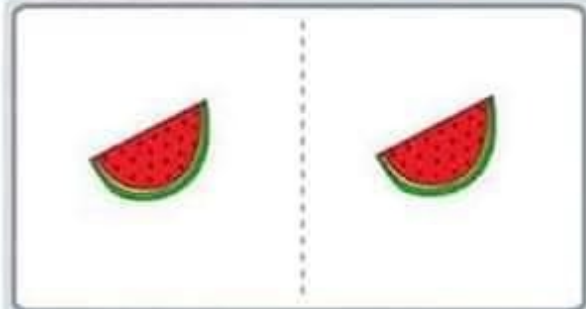


$1 + 2 = \square$

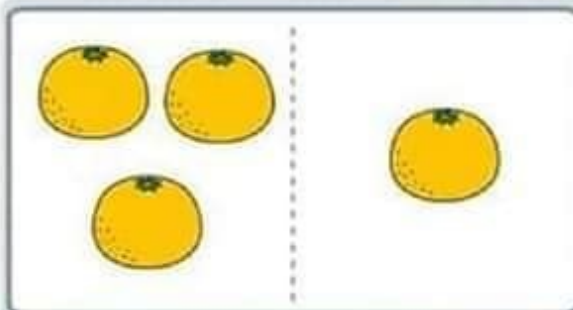
تمارين في الرياضيات للسنة الاولى ابتدائي
الاعداد والحساب



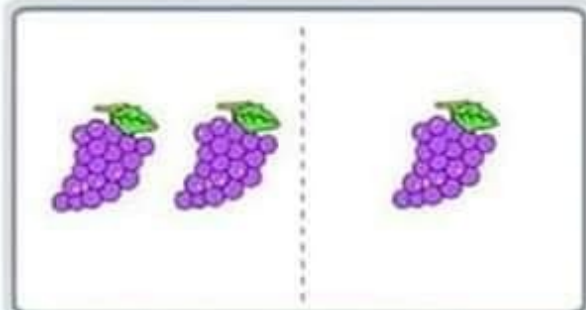
$4 + 1 = \square$




$1 + 1 = \square$



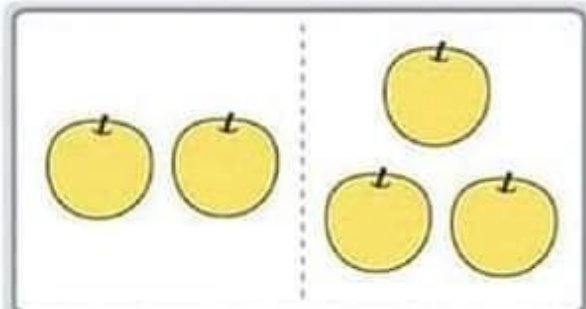
$3 + 1 = \square$



$2 + 1 = \square$




$1 + 2 = \square$



$2 + 3 = \square$

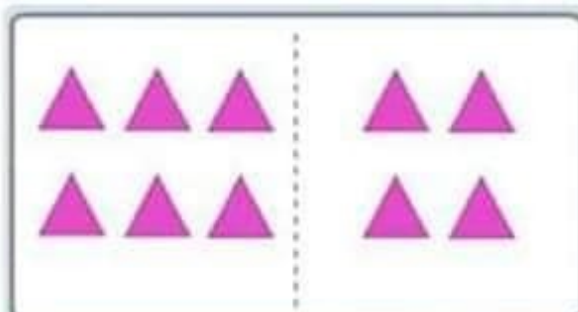
تمارين في الرياضيات للسنة الاولى ابتدائي
الاعداد والحساب




$$7 + 1 = \square$$



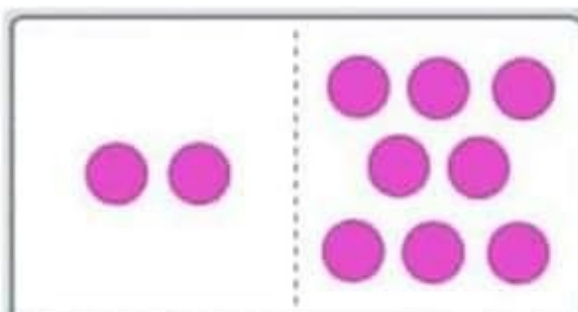
$$3 + 4 = \square$$



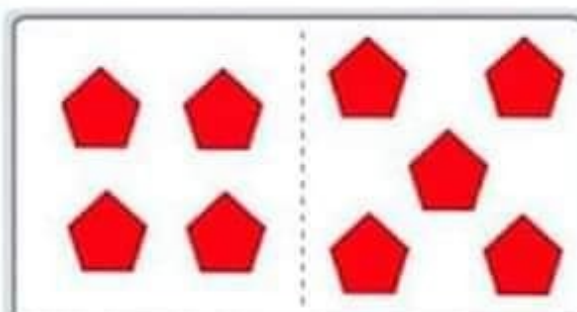
$$6 + 4 = \square$$



$$4 + 4 = \square$$




$$2 + 8 = \square$$

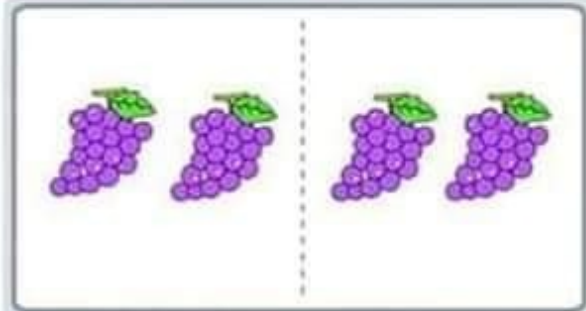


$$4 + 5 = \square$$


تمارين في الرياضيات للسنة الاولى ابتدائي
الاعداد والحساب



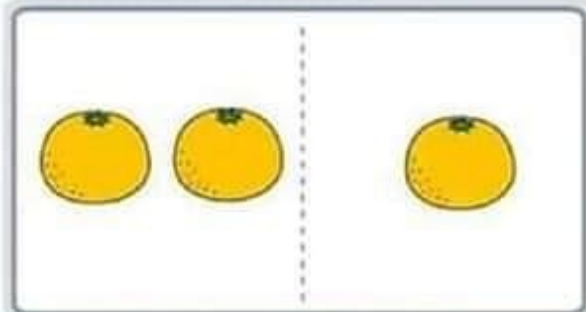
$$3 + 2 = \square$$




$$2 + 2 = \square$$



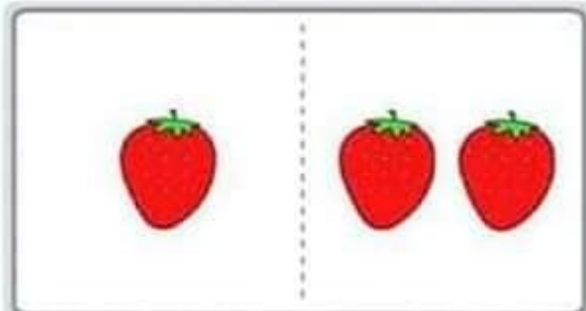
$$1 + 1 = \square$$



$$2 + 1 = \square$$

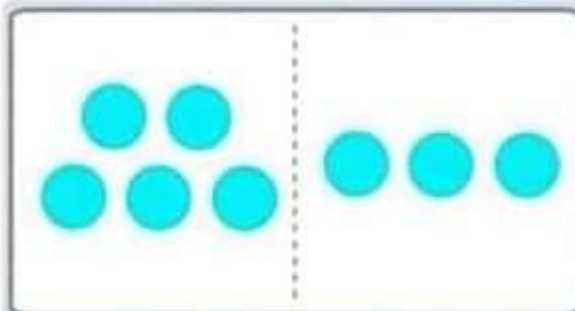


$$2 + 3 = \square$$




$$1 + 2 = \square$$

تمارين في الرياضيات للسنة الاولى ابتدائي
الاعداد والحساب



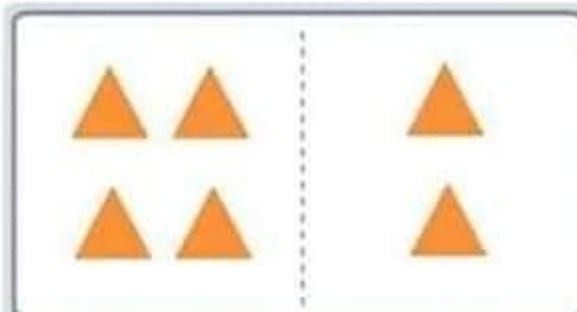
$$5 + 3 = \square$$



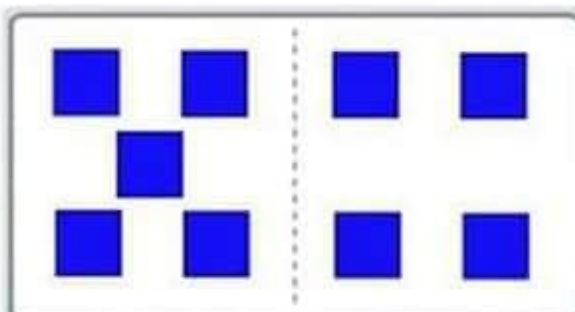
$$4 + 4 = \square$$



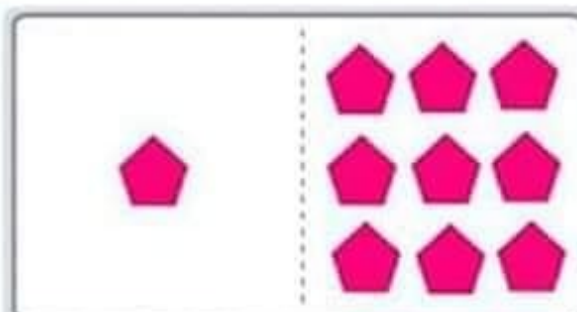
$$3 + 3 = \square$$



$$4 + 2 = \square$$

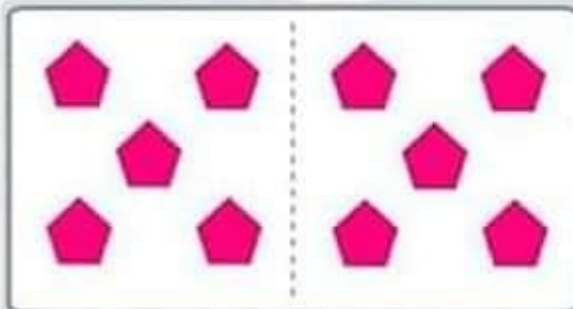


$$5 + 4 = \square$$

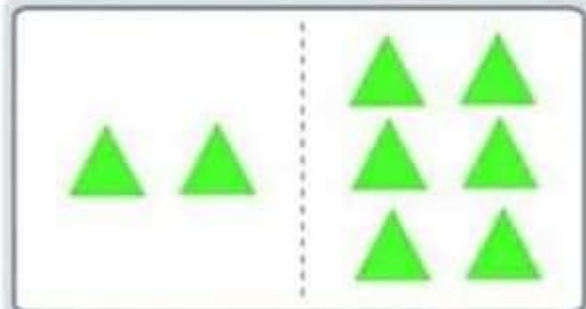


$$1 + 9 = \square$$


تمارين في الرياضيات للسنة الاولى ابتدائي
الاعداد والحساب




$$5 + 5 = \square$$



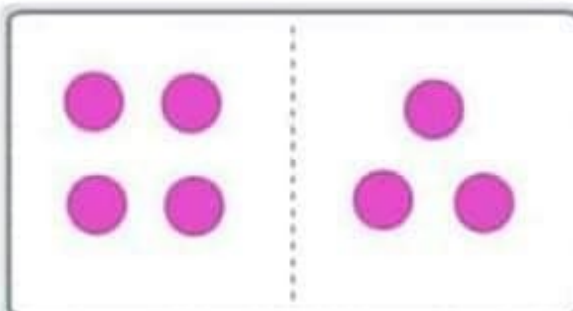
$$2 + 6 = \square$$



$$6 + 4 = \square$$



$$3 + 5 = \square$$

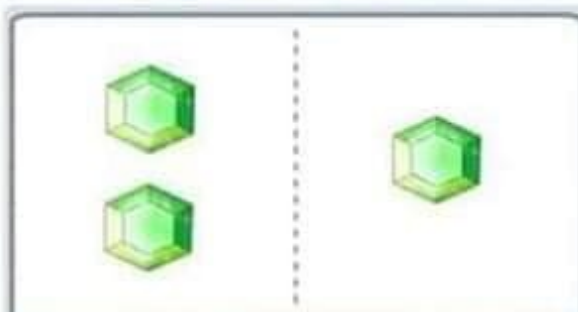


$$4 + 3 = \square$$




$$1 + 6 = \square$$

تمارين في الرياضيات للسنة الاولى ابتدائي
الاعداد والحساب



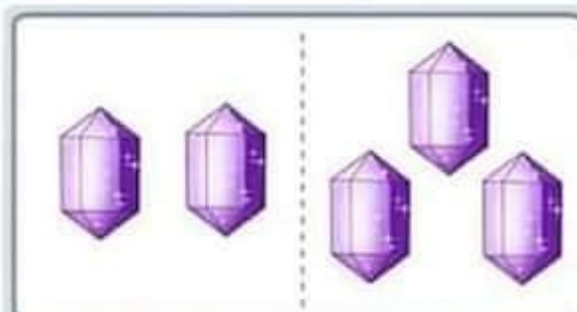
$$2 + 1 = \square$$



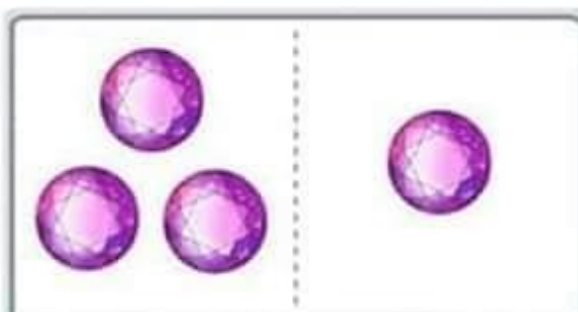
$$1 + 4 = \square$$



$$1 + 1 = \square$$



$$2 + 3 = \square$$



$$3 + 1 = \square$$

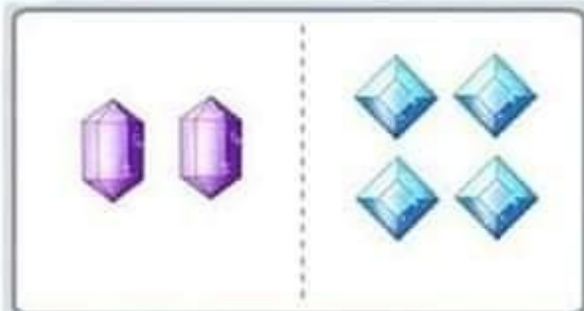


$$1 + 2 = \square$$

تمارين في الرياضيات للسنة الاولى ابتدائي
الاعداد والحساب



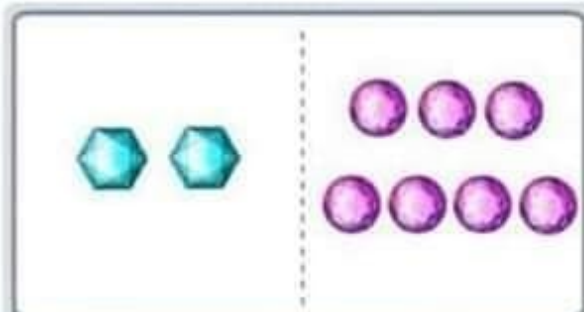
$$6 + 2 = \square$$



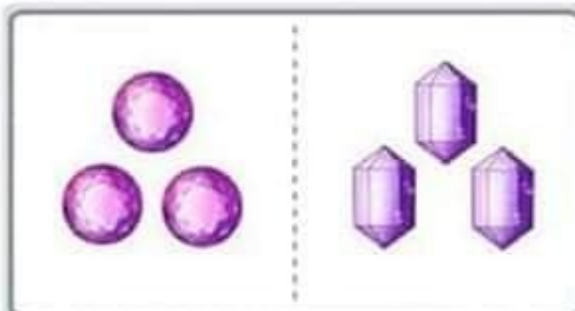
$$2 + 4 = \square$$



$$4 + 5 = \square$$



$$2 + 7 = \square$$

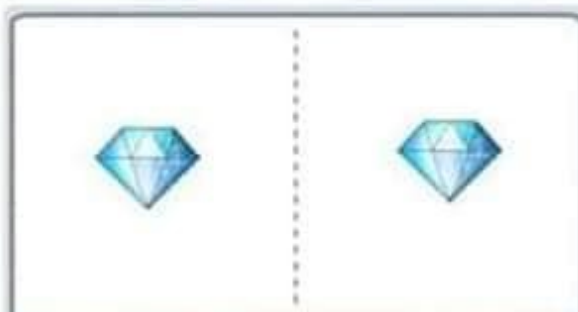


$$3 + 3 = \square$$



$$7 + 1 = \square$$

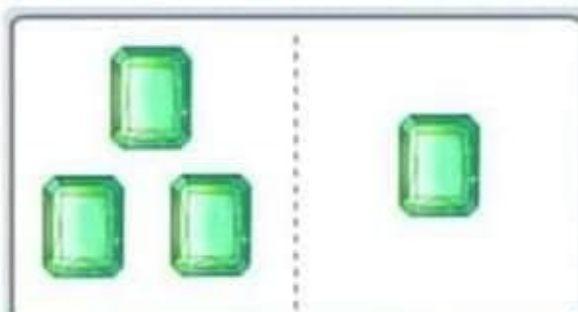
تمارين في الرياضيات للسنة الاولى ابتدائي
الاعداد والحساب



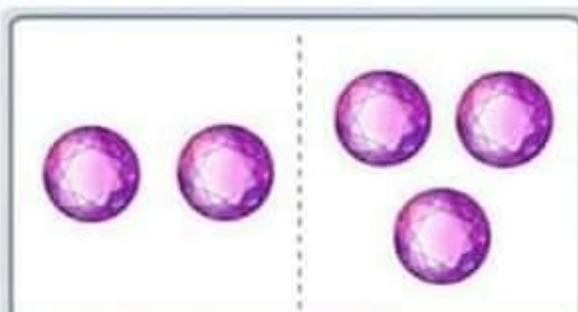
$$1 + 1 = \square$$



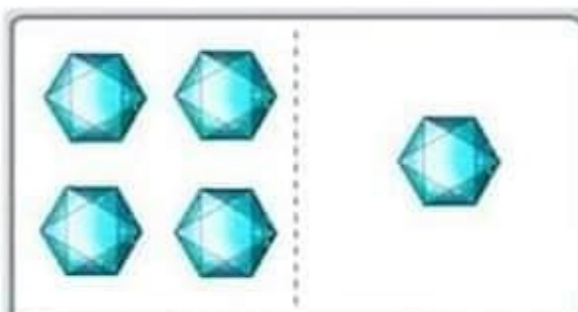
$$2 + 2 = \square$$



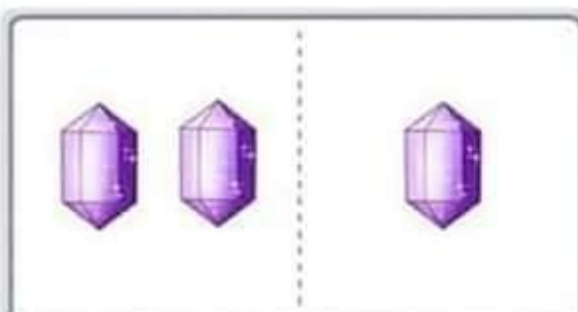
$$3 + 1 = \square$$



$$2 + 3 = \square$$




$$4 + 1 = \square$$

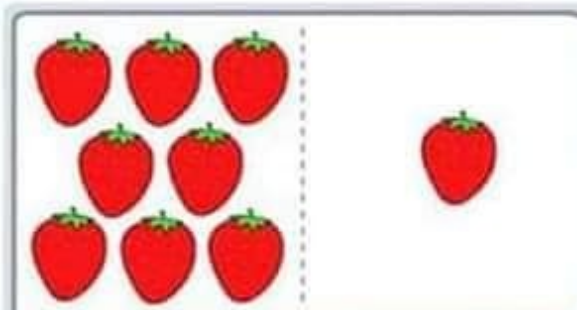


$$2 + 1 = \square$$


تمارين في الرياضيات للسنة الاولى ابتدائي
الاعداد والحساب



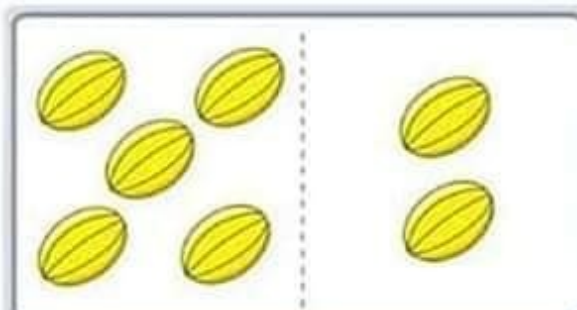
$$6 + 3 = \square$$



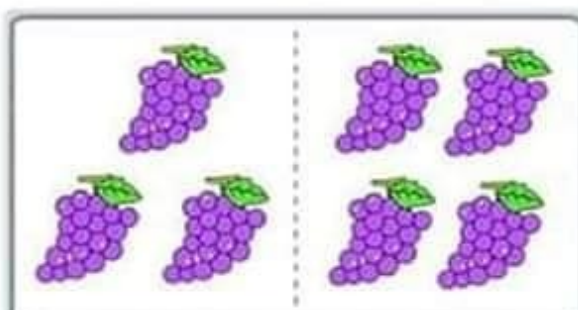
$$8 + 1 = \square$$



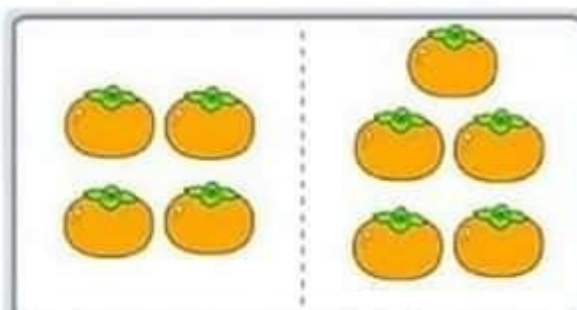
$$5 + 3 = \square$$



$$5 + 2 = \square$$




$$3 + 4 = \square$$




$$4 + 5 = \square$$

تمارين في الرياضيات للسنة الاولى ابتدائي
الاعداد والحساب




$$3 + 6 = \square$$




$$6 + 1 = \square$$




$$4 + 3 = \square$$



$$9 + 1 = \square$$



$$4 + 6 = \square$$



$$2 + 4 = \square$$


تمارين في الرياضيات للسنة الاولى ابتدائي
الاعداد والحساب




$$2 + 2 = \square$$




$$1 + 4 = \square$$



$$3 + 2 = \square$$



$$3 + 1 = \square$$

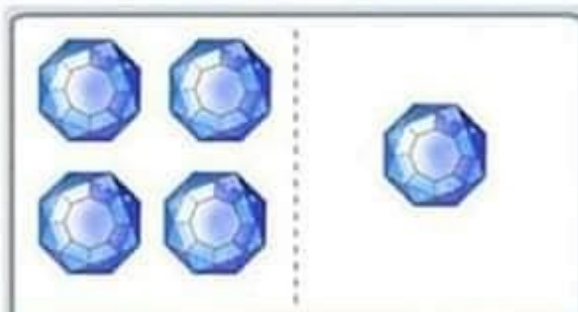


$$2 + 1 = \square$$

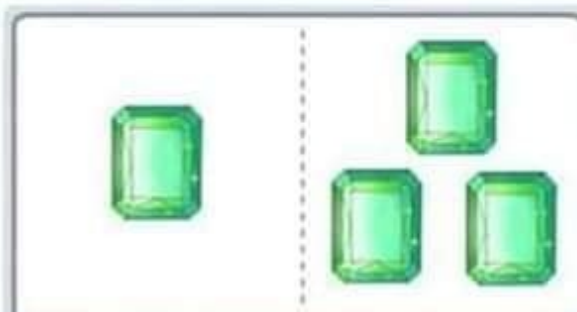


$$2 + 3 = \square$$

تمارين في الرياضيات للسنة الاولى ابتدائي
الاعداد والحساب



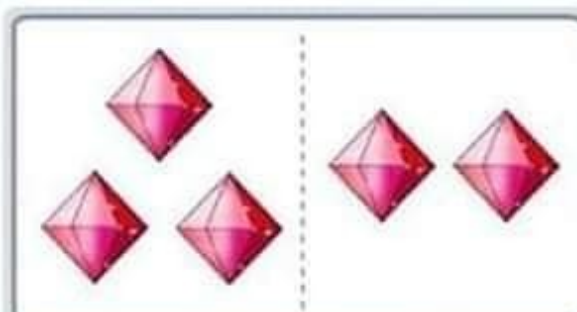
$$4 + 1 = \square$$



$$1 + 3 = \square$$



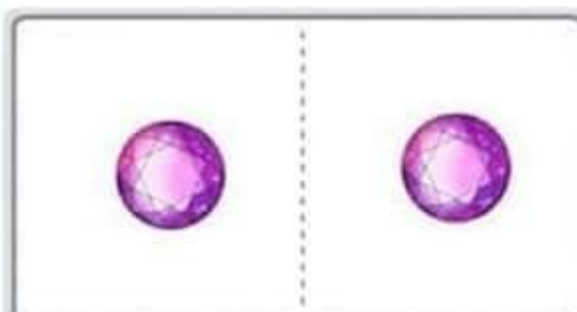
$$2 + 2 = \square$$



$$3 + 2 = \square$$




$$1 + 2 = \square$$

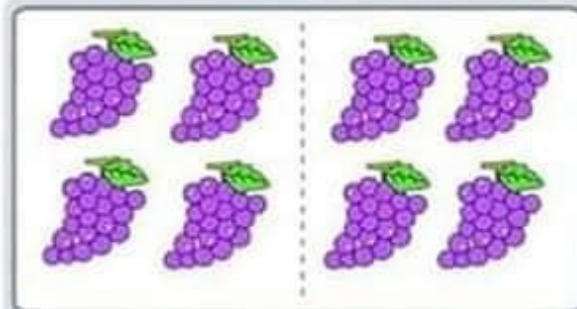


$$1 + 1 = \square$$

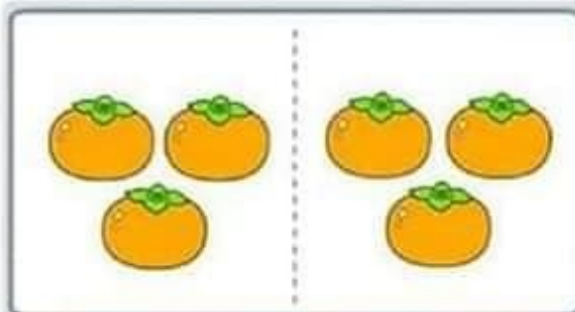
تمارين في الرياضيات للسنة الاولى ابتدائي
الاعداد والحساب



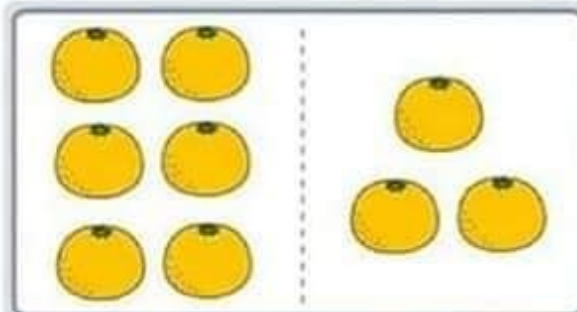
$$3 + 4 = \square$$




$$4 + 4 = \square$$



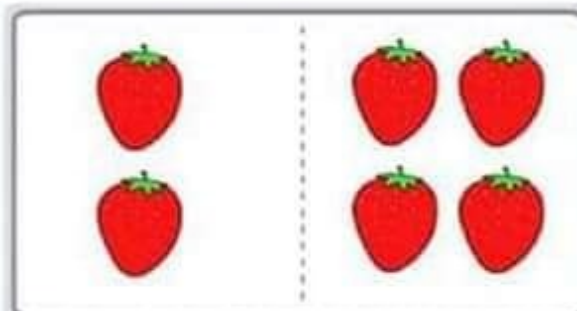
$$3 + 3 = \square$$



$$6 + 3 = \square$$




$$4 + 6 = \square$$

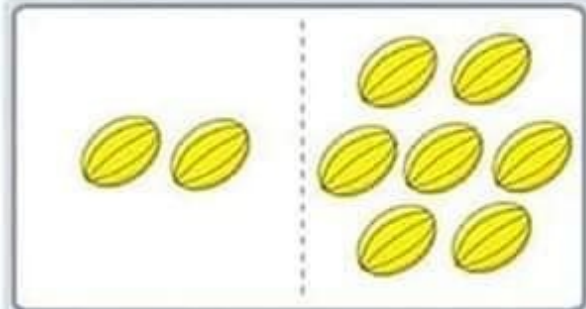


$$2 + 4 = \square$$


تمارين في الرياضيات للسنة الاولى ابتدائي
الاعداد والحساب



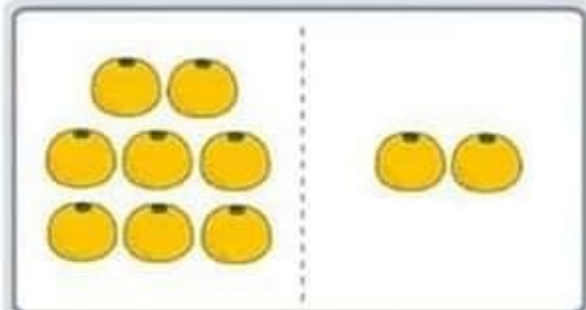
$$9 + 1 = \square$$




$$2 + 7 = \square$$



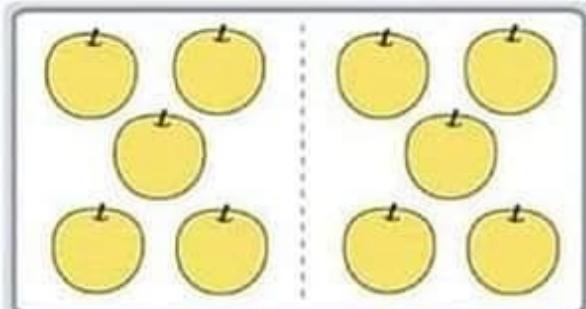
$$2 + 6 = \square$$



$$8 + 2 = \square$$




$$4 + 4 = \square$$



$$5 + 5 = \square$$


تمارين في الرياضيات للسنة الاولى ابتدائي
الاعداد والحساب




$$3 + 1 = \square$$



$$1 + 2 = \square$$




$$1 + 1 = \square$$



$$2 + 2 = \square$$




$$3 + 2 = \square$$




$$4 + 1 = \square$$

تمارين في الرياضيات للسنة الاولى ابتدائي


الاعداد والحساب




$$4 + 6 = \square$$




$$2 + 8 = \square$$




$$6 + 3 = \square$$



$$3 + 3 = \square$$



$$5 + 1 = \square$$



$$2 + 7 = \square$$

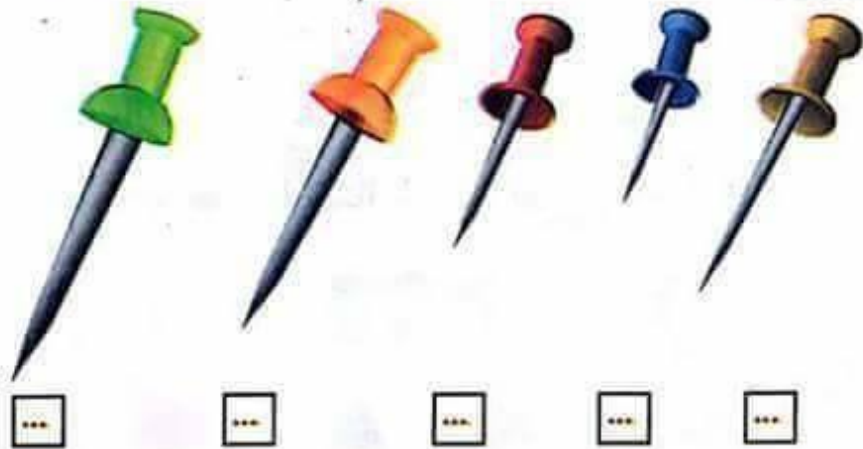
التفريز 3

اربط بالمسطرة الأرقام من الأصغر إلى الأكبر.
ما هو الشكل المتحصّل عليه؟



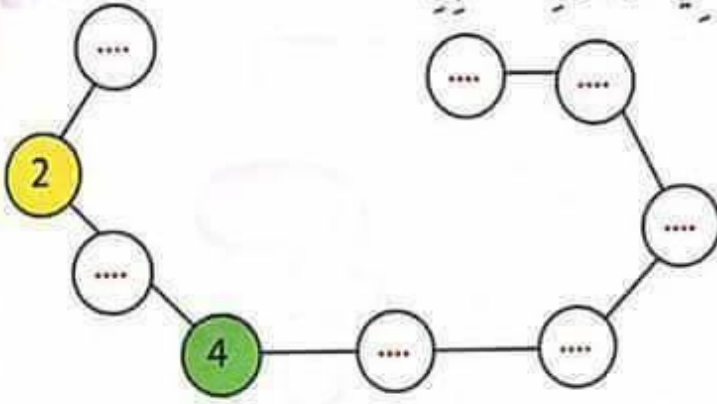
رتب الدبابيس من الأقصر إلى الأطول.

التفريز 4





التفريين 1 أكمل كتابة الأعداد مرتبة في الأقراص ولونها كما في الجدول المقابل.



7	Yellow
5	Yellow
2	Yellow
1	Green
3	Green
4	Green
9	Green
6	Red
8	Red


التفريين 2 لَوِّن بِطَاقَةَ العَدَدِ المُنَاسِبِ:

6 3 7	2 7 0	3 0 6

7 6 4	5 2 6



اختر الإجابة الصحيحة بوضع علامة X :




لَا	نَعَمْ
لَا	نَعَمْ
لَا	نَعَمْ
لَا	نَعَمْ

- الْمِبْرَاةُ أَمَامَ الْقَلَمِ
- الْقَلَمُ وَرَاءَ الْجُبْنِ
- الْجُبْنُ بَيْنَ الْقَلَمِ وَالْمِبْرَاةِ
- الْقَلَمُ بَيْنَ الْجُبْنِ وَالْمِبْرَاةِ

ضع علامة (X) على الأشياء الزائدة :



رَتِّبْ أَشْجَارَ النَّخِيلِ مِنَ الْأَقْصَرِ إِلَى الْأَطْوَلِ.



لَوِّنْ بِطَاقَةَ الْعَدَدِ الْمُنَاسِبِ :





المَوْضُوعُ الثَّامِنُ



لَا حِظُّ وَرَتَّبِ الأَعْدَادَ مِنَ الأَصْغَرِ إِلَى الأَكْبَرِ.

التَّمْرِينُ 1

3 1 8	7 1 5	0 9 6
...
5 1 2	0 5 7	7 4 2
...

لَا حِظُّ وَأَكْمِلْ :

التَّمْرِينُ 2


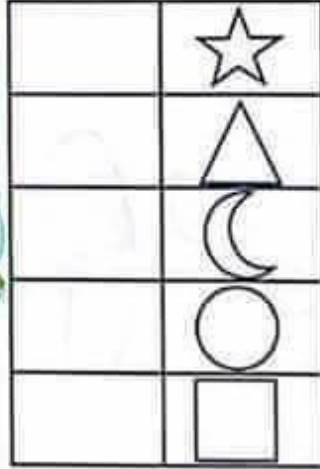
...				
4	5			
...	4	...		
...	5	
1	2	...	4	...

...				
...	...			
...	3	...		
...	4	4	...	
...	5	5	5	...



لَا حِظَّ الْأَشْيَاءِ الْمُتَشَابِهَةِ وَأَكْمِلِ الْجَدْوَلَ:

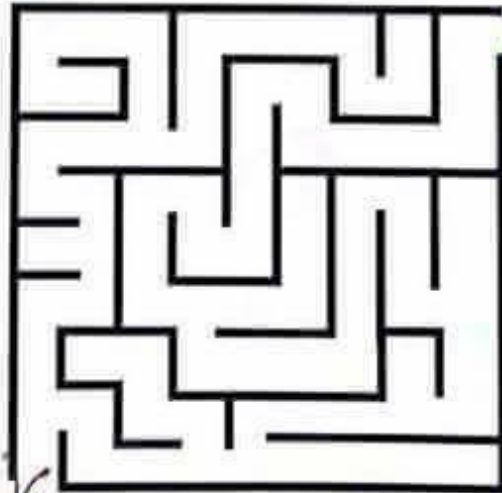
التَّمْرِينَ 3



التَّمْرِينَ 4



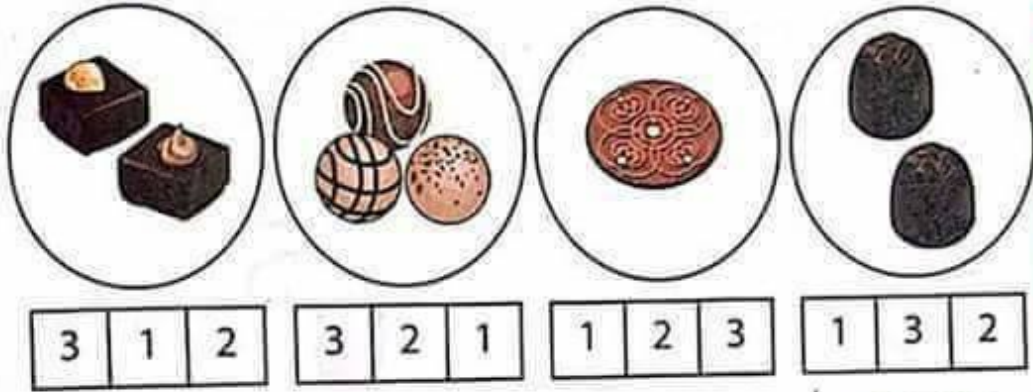
لَوْنٌ بِالْأَخْضَرِ الطَّرِيقَ الْقَصِيرَ الَّذِي تَسْلُكُهُ النَّحْلَةُ لِلْوُضُوعِ إِلَى
الرَّهْرَةِ.



الْفَضْلُ الْأَوَّلُ

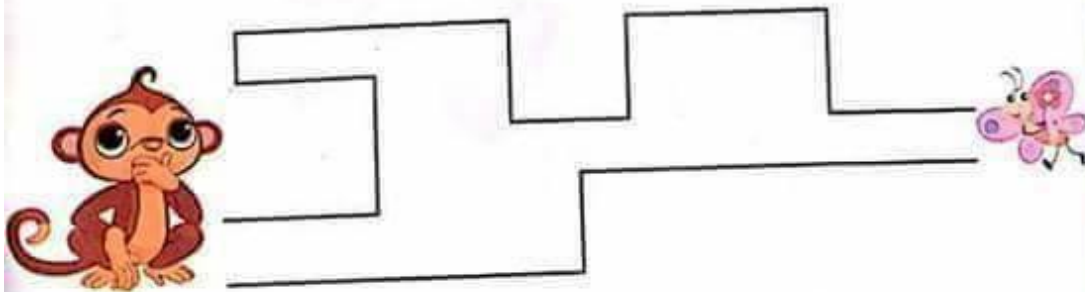


التفرين 1 عَدَّ كُلَّ كَمِّيَّةٍ وَصَلَّهَا بِالْعَدَدِ الْمُنَاسِبِ.



التفرين 2

لَوْنُ بِالْأَصْفَرِ الطَّرِيقَ الْقَصِيرَ الَّذِي يَسْلُكُهُ الْقِرْدُ لِلْوُصُولِ إِلَى الْفَرَّاشَةِ





رتب الأعداد: 2، 7، 6، 5، 1 من الأصغر إلى الأكبر:

....
------	------	------	------	------

رتب الأعداد: 1، 6، 3، 7، 0 من الأكبر إلى الأصغر:

....
------	------	------	------	------

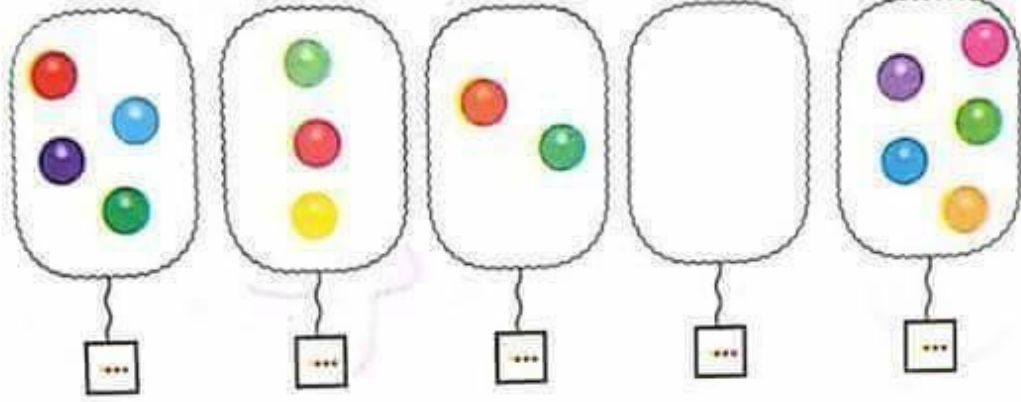
ضع علامة × على الأشياء الزائدة.






اكتب عدد القرصات في كل بطاقة.

التفريغ 1



أكمل رسم المثلثات بقدر العدد المكتوب:

التفريغ 2






التفرين 1 لَوْنِ بِطَاقَةَ العَدَدِ المُنَاسِبِ



7 3 6



0 4 3



5 2 4




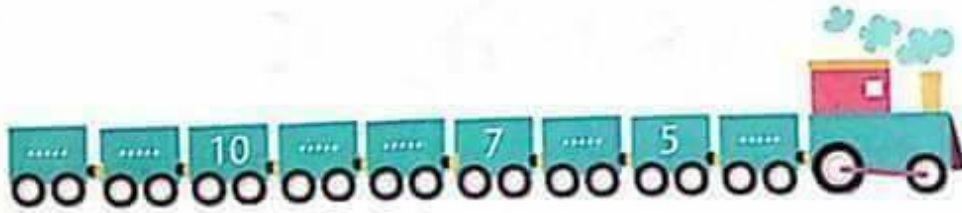
5 6 3



0 2 6

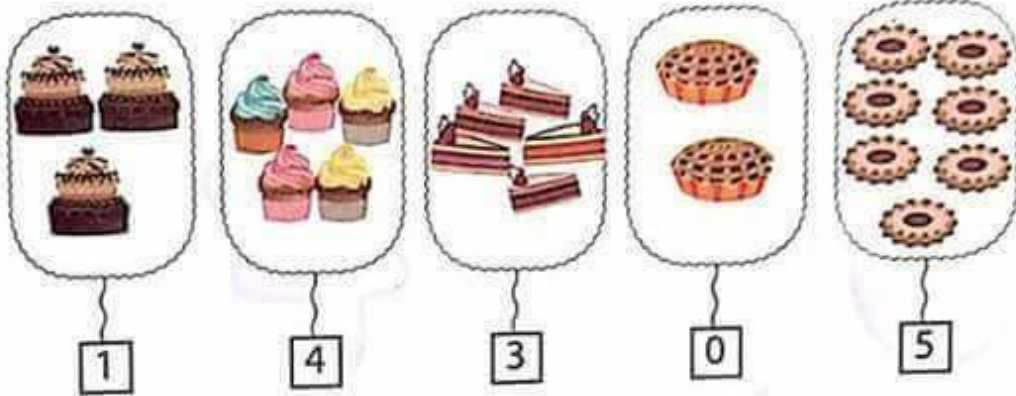
التفرين 2

لَا حِظَّ كُلِّ شَرِيْطٍ وَأَكْمِلْ.





التفرين 1 شطّب على الأشياء الزائدة في كل مجموعة



التفرين 2 لَوْن الجواب الصحيح :



لا	نعم
لا	نعم
لا	نعم

الخُبْزُ عَلَى الطَّاوِلَةِ.

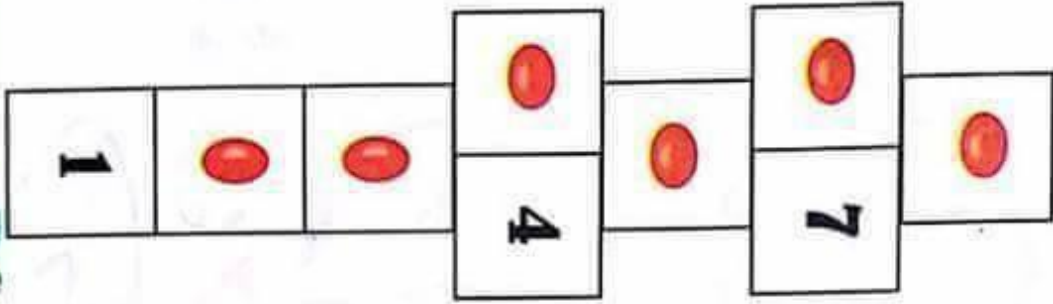
الدَّجَاجَةُ فَوْقَ الطَّاوِلَةِ.

الفَرَّاشَةُ تَحْتَ الطَّاوِلَةِ.



أَكْمِلْ كِتَابَةَ أَرْقَامِ لُغْبَةِ مَرِيَلَةَ.

التفريغ 3



ضَعْ عَلَامَةَ (X) فِي الْمَكَانِ الْمُنَاسِبِ :

التفريغ 4



نَعَمْ لَا

الفراشة فوق الفيل.











الفراشة تحت الفيل.

الفضل الأول

التفرين 3






■ لَوْنُ بِالْأَحْمَرِ الْأَقْرَاصَ الْمَوْجُودَةَ فِي أَعْلَى الْبِطَاقَةِ وَبِالْأَخْضَرِ الْأَقْرَاصَ الْمَوْجُودَةَ فِي أَسْفَلِهَا.

■ لَوْنُ بِالْأَصْفَرِ النُّجُومَ الْمَوْجُودَةَ فِي أَسْفَلِ الْبِطَاقَةِ وَبِالْأَزْرَقِ النُّجُومَ الْمَوْجُودَةَ فِي الْأَعْلَى.

التفرين 4

اَكْتُبِ الرَّقْمَ الْمُنَاسِبَ فِي كُلِّ بِطَاقَةٍ.

				
<input type="text" value="..."/>	<input type="text" value="..."/>	<input type="text" value="..."/>	<input type="text" value="..."/>	<input type="text" value="..."/>

اَكْتُبْ عَدَدَ الْأَشْيَاءِ فِي كُلِّ بَطَّاقَةٍ



...



...



...



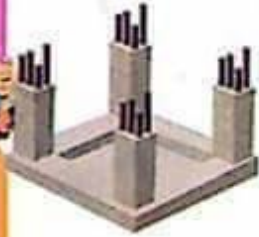
...



...



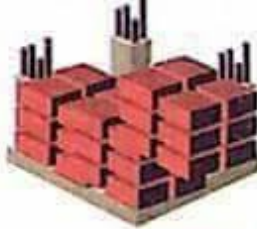
رَتِّبْ مِنْ 1 إِلَى 4 مَرَّاحِلَ بِنَاءِ الْبَيْتِ:



.....



.....



.....



.....

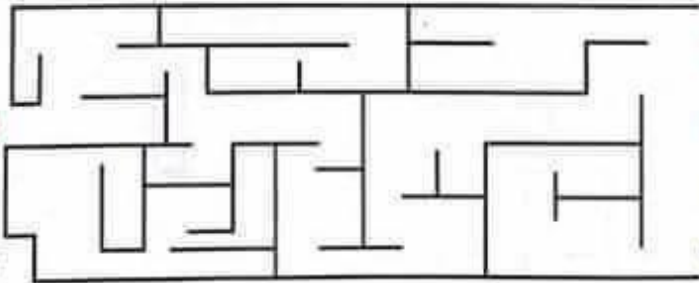


لَا حِظَّ وَضَعِ الْعَلَامَةَ X فِي خَانَةِ الْإِجَابَةِ الصَّحِيحَةِ:



- عُمَرُ يَرْفَعُ يَدَهُ الْيُمْنَى الْيُسْرَى
- زَيْنَةُ تَرْفَعُ يَدَهَا الْيُمْنَى الْيُسْرَى
- الْكُرَّةُ عَنِ يَمِينِ عَنِ يَسَارِ عُمَرَ.
- الْحَبْلُ عَنِ يَمِينِ عَنِ يَسَارِ زَيْنَةَ.

أَرْسَمِ الْمَسْلَكَ الَّذِي يَتَّبِعُهُ الطِّفْلُ لِلْوُضُوءِ إِلَى
الْمَكْتَبَةِ:

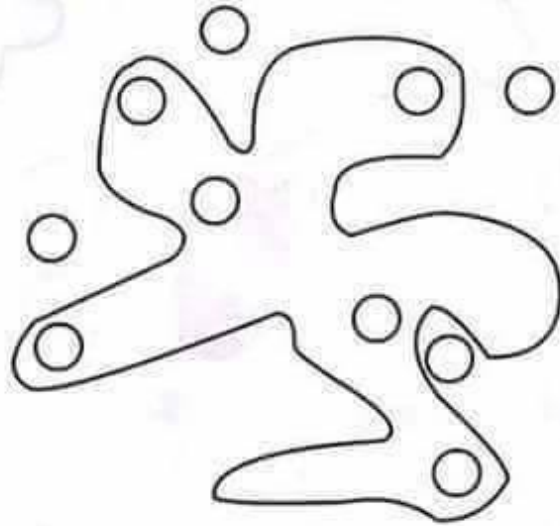


التفريز 3 أحيطُ الأشياءَ التي لها نفسُ الشَّكْلِ :



التفريز 4

لَوْنُ الكُرَيَّاتِ المَوْجُودَةِ دَاخِلَ الحَيِّزِ بِالأَحْمَرِ والمَوْجُودَةِ خَارِجَهُ بِالأَخْضَرِ.



الفضل الأول



الموضوع التاسع



أَكْمِلْ حَتَّى تَتَحَصَّلَ عَلَى أَعْدَادٍ مُتتَابِعَةٍ

التَّمْرِينُ 1

1 2 3 4 5

... 3 ...

... 2 ...

4

2

... .. 5

6

... 4 ...

0

... 6 ...

إِقْرَأِ الْعَدَدَ الْمَوْجُودَ فِي الْبِطَاقَةِ وَأَكْمِلْ:

التَّمْرِينُ 2

0	6	3
4	7	2














الموضوع العاشر



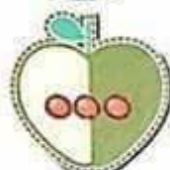

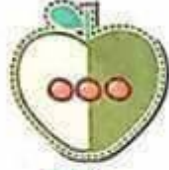

لَا حِظَّ وَرَتَّبِ الْأَعْدَادَ مِنَ الْأَكْبَرِ إِلَى الْأَصْغَرِ:

التَّمْرِينَ 1

  	  	  
...

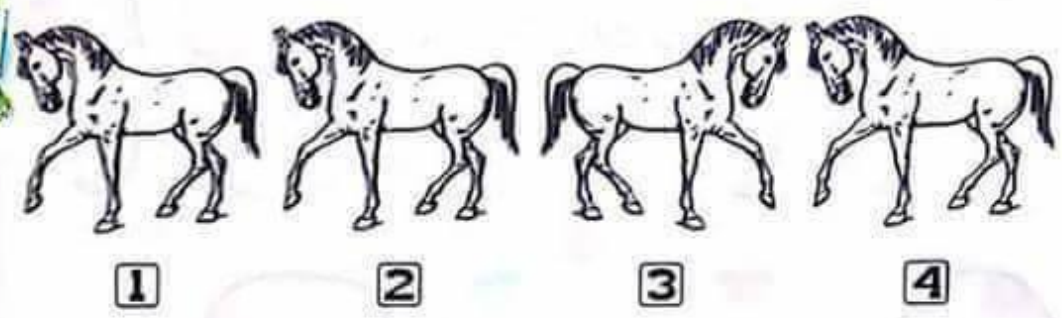
اَكْتُبْ عَنِ الْيَسَارِ الْعَدَدَ الَّذِي يَسْبِقُ وَعَنِ الْيَمِينِ
الْعَدَدَ الَّذِي يَلِي ثُمَّ لَوِّنْ:

التَّمْرِينَ 2



التفرين 3

لَوْنُ بِالْأَحْمَرِ الْحِصَانِ رَقْمَ 1 وَبِالْأَزْرَقِ الْحِصَانِ رَقْمَ 2 وَبِالْأَخْضَرِ الْحِصَانِ رَقْمَ 3 وَبِالْأَصْفَرِ الْحِصَانِ الْمُقَابِلَ لَهُ.



التفرين 4

صِلْ الْمَجْمُوعَةَ بِالْعَدَدِ الْمُنَاسِبِ



4



9



6



3



1 التفرين



لَوْنُ بِالْأَصْفَرِ النَّجْمَةُ الَّتِي هِيَ
وَرَاءَ الْفِيلِ.
لَوْنُ بِالْأَزْرَقِ النَّجْمَةُ الَّتِي هِيَ
أَمَامَ الْفِيلِ.

2 التفرين


صِلُ الْأَشْيَاءَ بِالْعَدَدِ الْمُنَاسِبِ :




2



1



3



4





الموضوع الخامس




التفريز 1

ضع إشارة ↑ في بطاقات الطائرات المتوجهة إلى الأعلى والإشارة ↓ في بطاقات الطائرات المتوجهة إلى الأسفل.




أرسم حيزًا مغلقًا لتكون الأزهار الحمراء داخل الخط والأزهار الصفراء خارجه.






الموضوع الثاني

التفرين 1 أحيط كل نوع من الحيوانات بحيز مغلق



التفرين 2 اكتب العدد المناسب في كل خانه :



Four empty square boxes for writing the counts.

