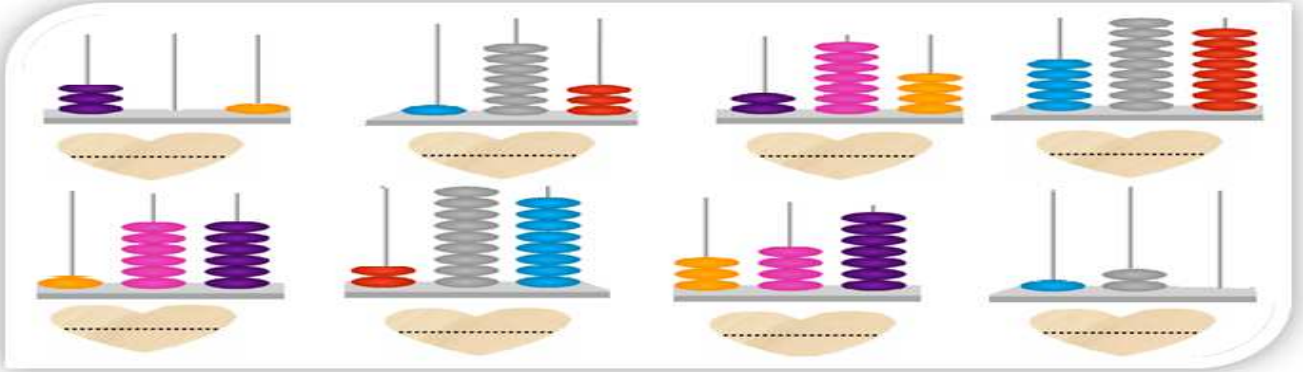



السنة الثانية
رياضيات
الأعداد : من 100 إلى 499 / قراءة و كتابة

1- أَكْتُبُ الأَدَدَ المُنَاسِبَ لِكُلِّ مِعْدَادٍ ثُمَّ أَقْرُؤُهُ




2- أَرْبُطُ بِسَهْمٍ




3- أَكْمِلُ تَعْمِيرَ الجَدْوَلِ

الأعداد بالأرقام	الأعداد بلسان القلم
350	أربعمائة و أربعة و ستون
456	مئتان و ثلاثة و تسعون
	مائة و أربعة

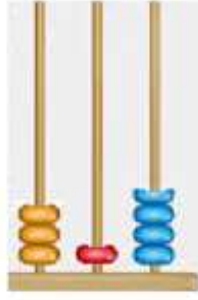
4- أَنَسِبُ بَيْنَ الْمَعْدَادِ وَ الْكَمِّ



288



486




484



307

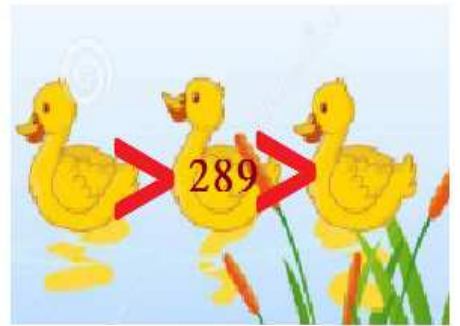


468

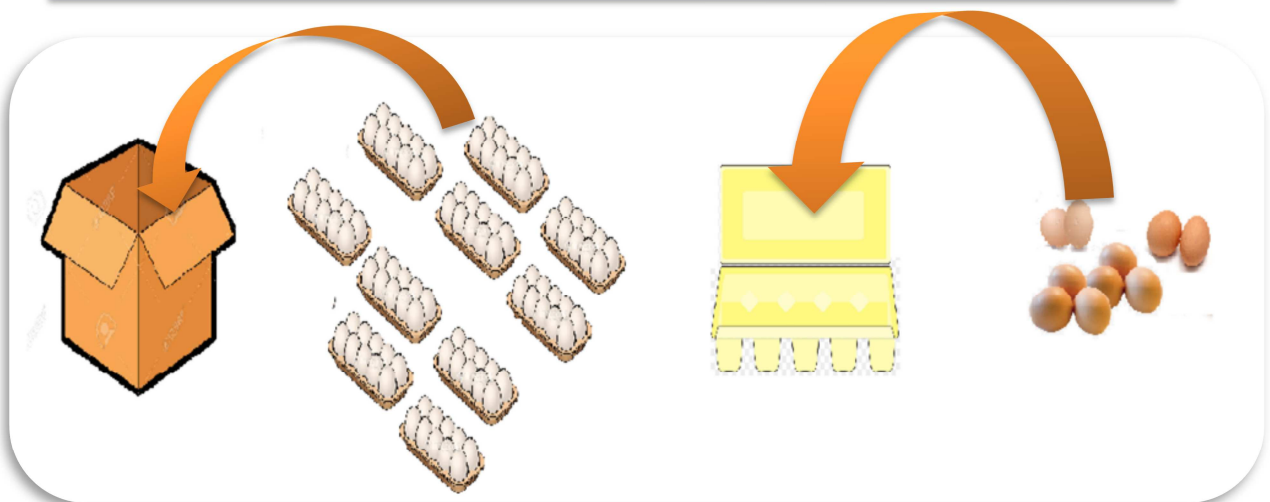


256

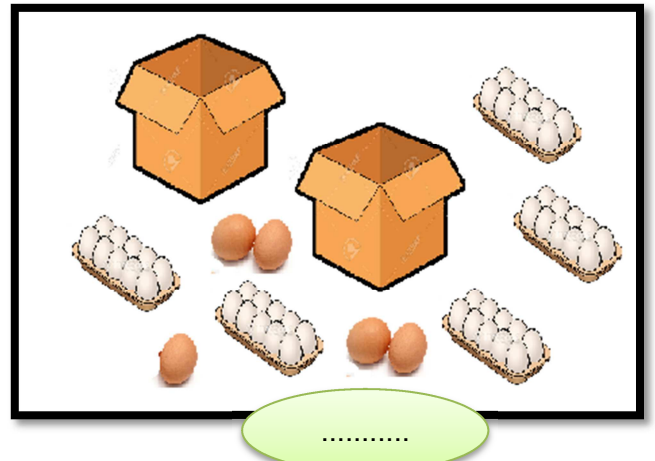
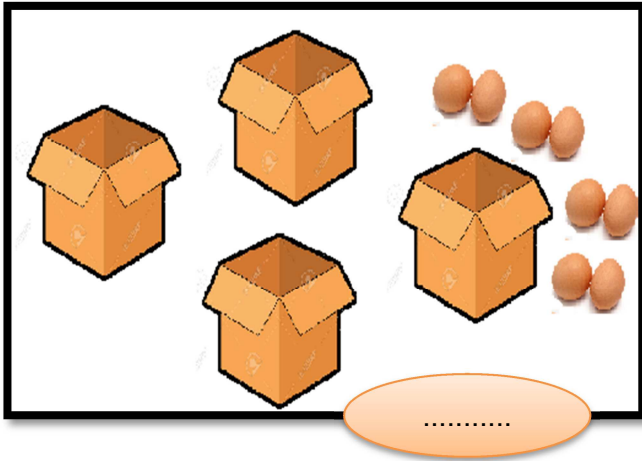
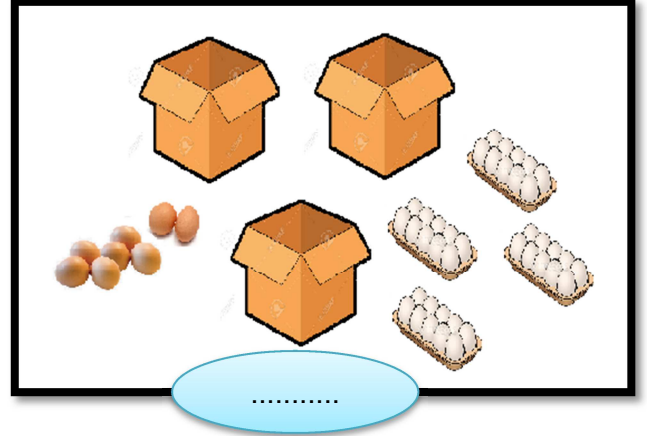
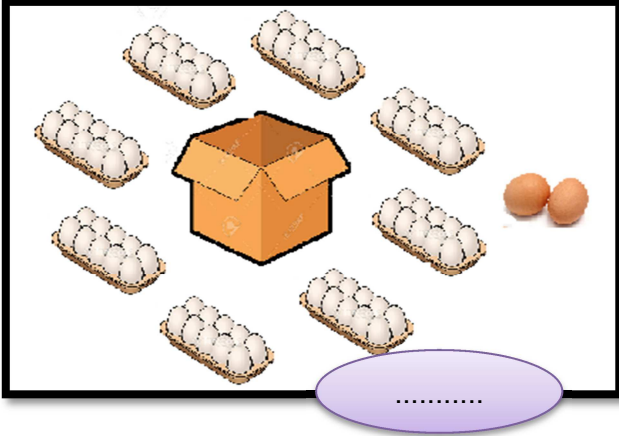
5- أَوْجِدْ حَصْرًا لِلْعَدَدِ بَيْنَ الْمِنَاتِ الْكَامِلَةِ



جَمَعَ صَاحِبُ الْمَدِينَةِ الْبَيْضَ. وَقَامَ الْعَمَالُ بِشَحْنِهِ. كُلَّ 10 بَيْضَاتٍ
تُوضَعُ فِي حَامِلَةٍ لِلْبَيْضِ وَكُلَّ 10 حَامِلَاتٍ تُجْمَعُ فِي صُنْدُوقٍ.






6- أَبْحَثْ عَنِ كَمِّ الْبَيْضِ عِنْدَ كُلِّ عَامِلٍ



مِنْ فَضْلِكَ , أُرِيدُ 426 بَيْضَةً

7 - أَمِثِلْ طَلَبَ كُلِّ تَاجِرٍ





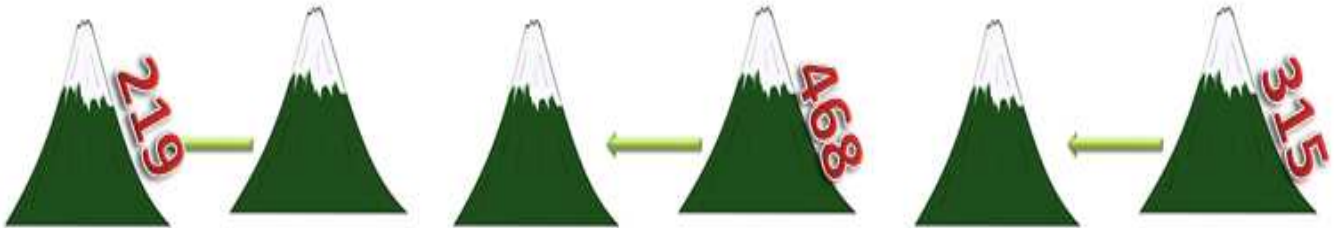
أَسَاعِدُ كُلَّ طِفْلِ عَلَى كِتَابَةِ الرَّفْمِ الْأَخَاصِ بِهِ فَوْقَ قَمِيصِ السَّبَاقِ.



السنة الثانية
رياضيات
الأعداد : من 100 إلى 499 / التفكير و التركيب



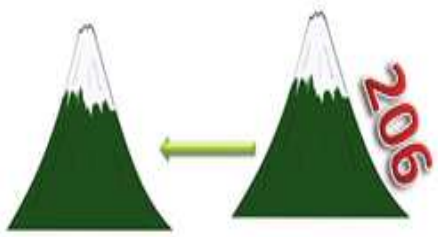
1- أَفَكِّكْ وَفَقِّ الصِّيغَةَ الْقَانُونِيَّةَ



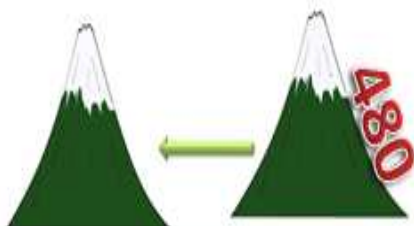
..... = 219

..... = 468

..... = 315



..... = 206



..... = 480

2- أَفْكِّهِ إِلَى مِائَاتٍ كَامِلَةٍ مَعَ الْبَاقِي



251



458



159



208

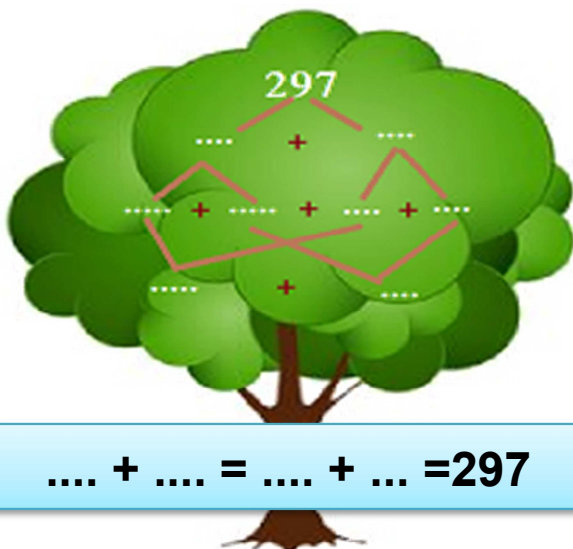


358

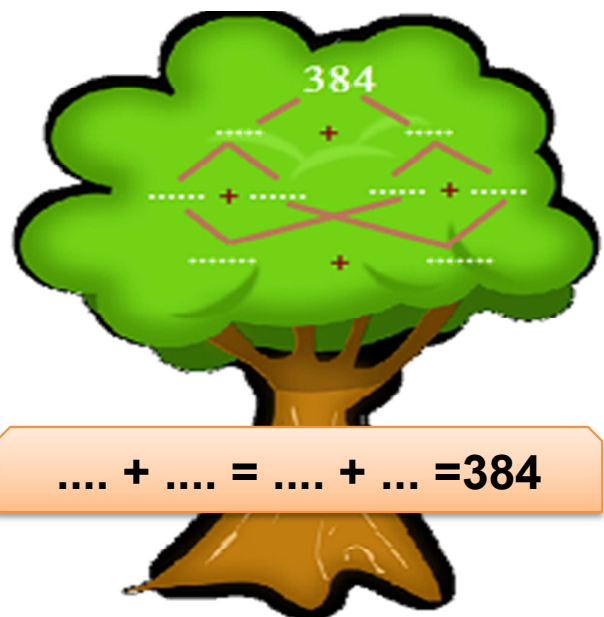
3- أَكْمِلِ الْعَدَدَ الْأَقْصَى



4- أَوْجِدْ تَفْكِيفًا



$$\dots + \dots = \dots + \dots = 297$$



$$\dots + \dots = \dots + \dots = 384$$

فِي مَرَكَزِ الْبَرِيدِ إِفْتَطَعَ كُلُّ طِفْلِ تَذَكْرَةَ لِتَحَدِّدَ تَرْتِيبَهُ.

5- أَوْجِدْ عَدَدَ الْأَشْخَاصِ الَّذِينَ سَيَمْرُونَ قَبْلَ كُلِّ فَرْدٍ لِلْوُصُولِ إِلَى دَوْرِهِ



السنة الثانية
رياضيات
الأعداد : من 100 إلى 499 / قراءة و كتابة

182

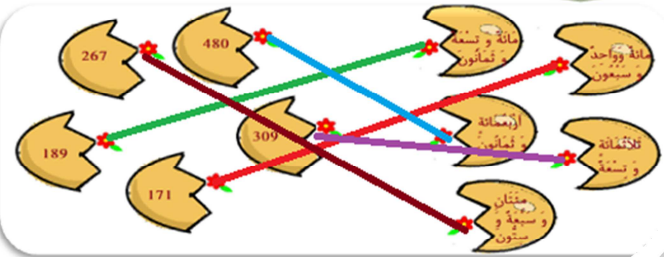
348

408

255



2- أرْبِطْ بِسْتِهِمْ

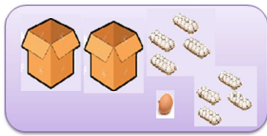


3- اكْمَلْ تَعْمِيرَ الْجَدْوَلِ

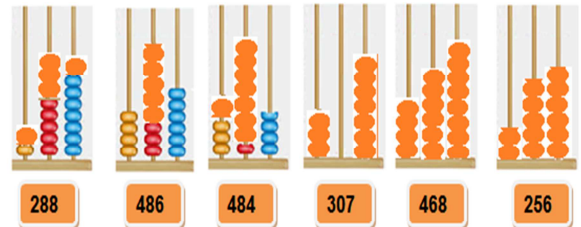
العَدَدُ بِالْأَرْقَامِ	العَدَدُ بِلِسَانِ الْقَلَمِ
464	أَرْبَعِمِائَةٍ وَ أَرْبَعَةٌ وَسِتُونَ
350	ثَلَاثِمِائَةٌ وَ خَمْسُونَ
293	مِئَتَانِ وَ ثَلَاثَةٌ وَ تِسْعُونَ
456	أَرْبَعِمِائَةٌ وَ سِتَّةٌ وَ خَمْسُونَ
104	مِائَةٌ وَ أَرْبَعَةٌ

7- أمثل طلب كل تاجر

من فضلك ، أريد 426 بيضة



4- انساب بين الأعداد و الكَمِّ



5- أوجد خصرًا للعَدَدِ بَيْنَ الْمَمَاتِ الْكَلِمَةِ



7- أمثل الكَمِّ

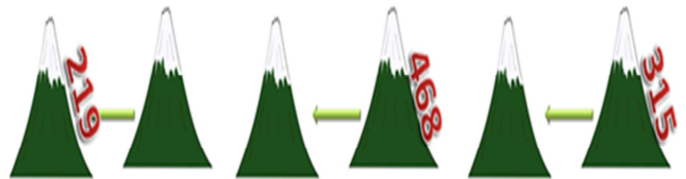


أَسَاعِدُ كُلَّ طِفْلِ عَلَى كِتَابَةِ الرَّقْمِ الْخَاصِ بِهِ فَوْقَ قَمِيصِ السِّيَاقِ.



السنة الثانية رياضيات
الأعداد : من 100 إلى 499 / التفكير و التركيب

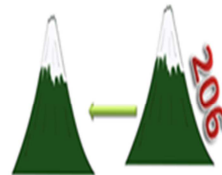
1- افكك وفق الصيغة القانونية



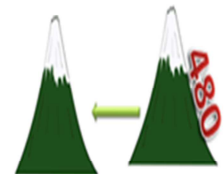
$$200 + 10 + 9 = 219$$

$$400 + 60 + 8 = 468$$

$$300 + 10 + 5 = 315$$



$$200 + 6 = 206$$



$$400 + 80 = 480$$

3- أكمل العدد الناقص



2- أفكك إني مَنات كَامِلَة مَع أَلْيَاقِي



251



458



159

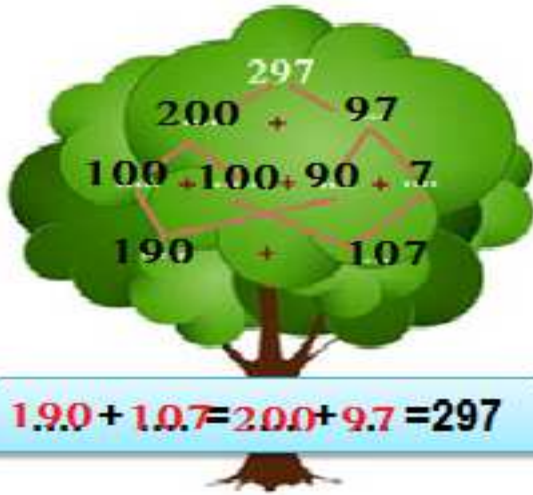


208

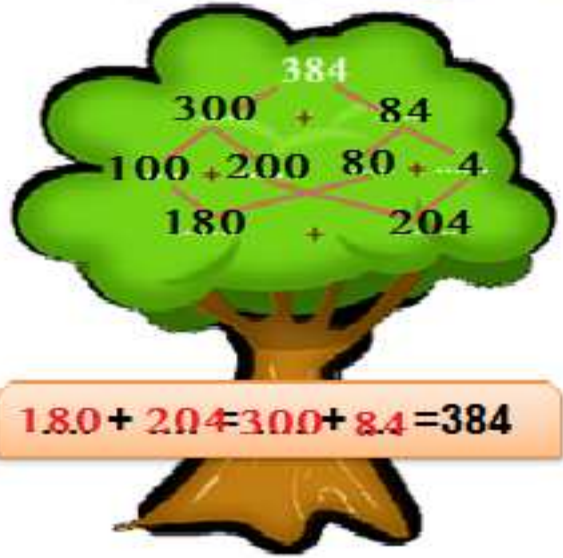


358

4- أوجد تفكيكا



$$190 + 107 = 200 + 97 = 297$$



$$180 + 204 = 300 + 84 = 384$$

5- أوجد عدد الأشخاص الذين سيمرون قبل كل فرد للوصول إلى دوره

