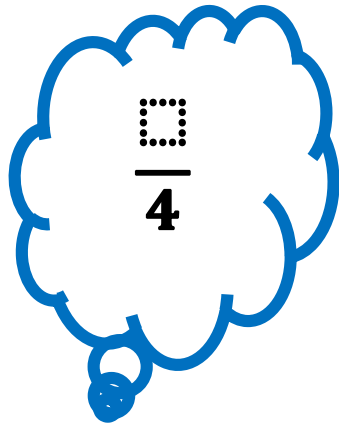
















جوان 2015	الحساب الذهني	
المادة أ ب ج د		
الاسم والألقاب:		

الملاحظة	العمليات	العلامة
<p>عند الإشارة أسجل النتيجة النهائية.</p> <p>تسند نصف نقطة عن كل إجابة صحيحة.</p>	867..	1 ☹️ 😊
	2 ☹️ 😊
	$\frac{3}{8}$	3 ☹️ 😊
	$\frac{3}{4} \quad \frac{3}{3} \quad \frac{3}{2}$	4 ☹️ 😊
	5 ☹️ 😊
	6 ☹️ 😊
	$.... > \frac{59}{6} > ...$	7 ☹️ 😊
	$- = \frac{3}{5} - 2$	8 ☹️ 😊



جوان 2015 السّادسة أ ب ج د	الحساب الذّميني	مدرسة
وثيقة المعلم		

الملاحظة	العمليات	العلامة
<p>عند الإشارة أسجّل النتيجة النهائيّة.</p> <p>تسند نصف نقطة عن كلّ إجابة صحيحة.</p>	قابل للقسمة على 2 و 5 و 9 867..	1  
	90,67 - 152,67	2  
	$\frac{3}{8}$	3  
	أكبر عدد كسري من بين $\frac{3}{4}$ $\frac{3}{3}$ $\frac{3}{2}$	4  
	$8 \times \frac{5}{8}$	5  
	10 % من 2 دينار	6  
	$.... > \frac{59}{6} > ...$	7  
	$- = \frac{3}{5} - 2$	8 