

السند 1 : أثناء عطلة الربيع ذهب أحمد إلى ضيعة جدّه ليقضي هناك بعض الأيام. فركب درّاجته و انطلق نحو الضيعة.

التعليمة 1 - 1 : أضع العلامة (X) تحت الجسم الذي يحوي هواء مضغوطاً مع 1 أ



مع 2 أ

التعليمة 1 - 2 : ماذا تحوي القنينة مع العسل ؟

.....

التعليمة 1 - 3 : أصلح الخطأ:

مع 3

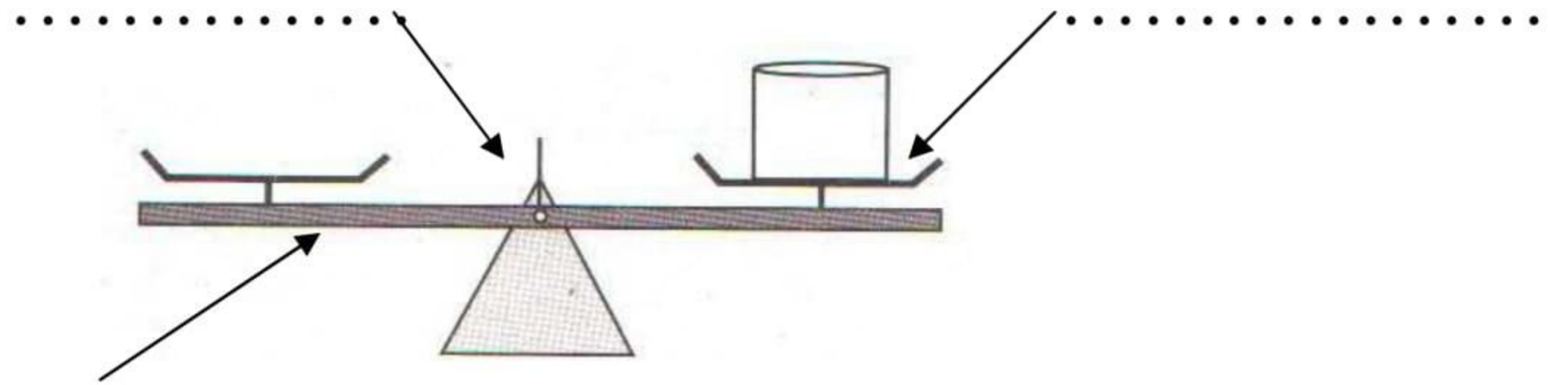
الكأس الفارغة لا تحوي شيئاً.

.....

السند 2 : في طريق العودة مرّ أحمد ببائع فواكه ، فاشترى منه رطلاً من الفواكه الجافة

مع 2 أ

التعليمة 2 - 1 : أسمّي أجزاء الوسيلة التي استعملها البائع لقيس كتلة الفواكه



السند 3 : وصل أحمد إلى الضيعة فسلم على جدّه و جدّته ثمّ ذهب ليقوم بجولة في الغابة.

مع 3

التعليمة 3 - 1 : أصلح الخطأ:

* الهواء في الغابة ملوث.

* التشجير لا ينقي الهواء.

السند 4: شاهد أحمد في ضيعة جدّه كثيرا من الحيوانات .


التعليمة 4 - 1: أعلّل إجابتي :

* تتنقل الأرنب قفزا . لماذا ؟

* للنعامه جناحان لكنّها لا تطير . لماذا ؟

السند 5: عند الزّوال دعا الجدّ حفيده لتناول الغداء .

التعليمة 5 - 1: أصنّف الأغذية إلى 3 مجموعات حسب اللّافئات.



أغذية الوقاية


أغذية الطّاقة

أغذية النّمّو


التعليمة 5 - 2: متى تكون الوجبة متوازنة؟

التعليمة 5 - 3: أكوّن وجبة فطور صباح متوازنة.

مستويات التّمك	معايير الحدّ الأدنى				معايير التميّز
	مع1أ	مع1ب	مع2أ	مع2ب	
---	0	0	0	0	عت1
--+	1	1	1.5	1.5	عت2
-++	2	2	3	3	عت3
+++	3	3	4.5	4.5	1.5




مع2ب



مع1ب



مع2ب



مع2أ

