

الاختبار:  
الإيقاظ العلمي

الامتحان التجريبي الخاص بمناظرة الدخول إلى المدارس  
الإعدادية النموذجية  
دورة 2014

الجمهورية التونسية  
وزارة التربية  
تفقدية المدارس الابتدائية للغة العربية  
بدائرة الزهراء

عدد الترسيـم:

الاسـم : ..... اللقب : ..... القسم : 6.....

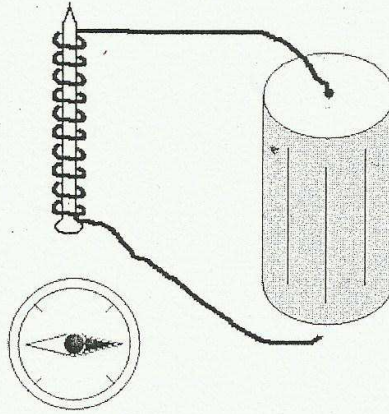
السند 1 : يوم الأحد، عزم أحمد على زيارة جدّه و جدّته في الضيعة، و ليلة السّبت بينما كان أفراد العائلة مجتمعين في غرفة الجلوس إذ انقطع التّيار الكهربائي فأحضرت أخته الكبرى شمعة و أشعلتها. التّعليمية: أكتب في الخانات الفارغة التّعريف المناسب استنادا إلى المنطقة:  
بها هباب الفحم، شديدة الحرارة، بها غاز الشّمع.

مع 1

التّعريف	المنطقة
	المنطقة الصّقراء
	المنطقة الزّقاء
	المنطقة القاتمة

السند 2 : بعد دقائق، عاد التّيار الكهربائي، فاستغل أحمد وقت فراغه و أعدّ ما يلزم من وسائل و قام بالتّجربة التّالية:

التّعليمية: تأمّل الرّسم و أكتب ( نعم ) أو ( لا ) في الخانة المناسبة.



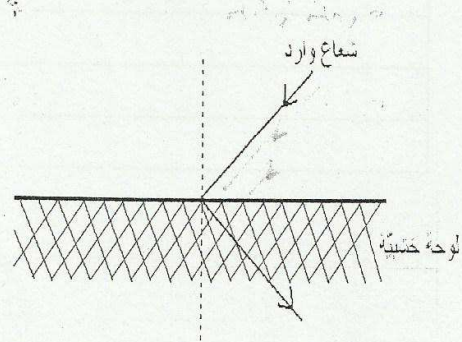
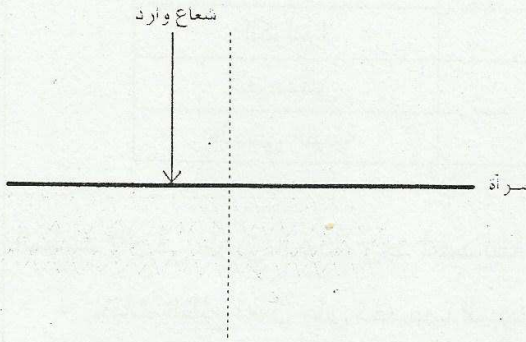
مع 2

- الوشيعة هي التي تجذب الإبرة المغناطيسيّة بالبوصلية.
- القطب الأعلى للوشيعة هو القطب الجنوبي.
- للعمود الجاف قطبان.



**السؤال 3 :** بعد الانتهاء من هذه التجربة، أنجز أحمد التمرين التالي:  
**التعليمة:** أتملّ الرسمين و أشطب الخطأ و أقوم بالإصلاح إن وجد.



مع 3

--	--	--

**السؤال 4 :** في صبيحة يوم الأحد، قصد أحمد الضيعة فاستقبلته جدته بكلّ حفاوة و لاحظ أنّها تضع نظارة على غير عاداتها.  
**التعليمة:** أتمم الفراغ بما يناسب.

- ..... تجمع الأشعة و تعكسها على الشبكية.
- ..... تكيف اتساع الحدقة.
- ..... ينقل الصّور مقلوبة إلى المخ.

مع 1

--	--	--

**السؤال 5 :** بعد استراحة قليلة، قدّمت الجدة لأحمد خبزا و جبنا.  
**التعليمة:** أكتب ( صواب ) أو ( خطأ ).

- ما تناوله أحمد وجبة متوازنة.

- توقّر السكريات الوقاية لجسم الإنسان.

- يسبّب نقص الفيتامين (ج) في الغذاء مرض الكساح.

مع 1

--	--	--



السند 6 : بعد مدة خرج أحمد رفقة جدّه إلى الحقول، و خلال التجوال، رأى أحمد عينا جارية، أراد أن يشرب و لكن جدّه منعه .  
التعليمة: أساعد أحمد على تعمير هذا الجدول.

الأعراض	الأمراض
	الكوليرا
	البوصقيير
	الحمى التيفية

مع 2  
□ □ □

السند 7 : في طريق العودة، وجد أحمد نبتة فول مزهرة. أخذ منها زهرة و تأملها ثم قال:  
- حبات الطلع تعمل على تخصيب المبيض.  
- المدقة تتحول إلى ثمرة.  
- السداة تحمي الأعضاء الداخلية للمثبر.  
التعليمة: أساعد أحمد على إصلاح الخطأ إن وجد.

مع 3  
□ □ □

معيير التمييز	معايير الحد الأدنى					مستويات التملك	
	مع 3		مع 2		مع 1		
0			0	0	0	انعدام التملك ( - - - )	
2	1	2	1	3	2	1	التملك دون الأدنى ( - - + )
4	3	4	3	6	5	4	التملك الأدنى ( - + + )
5		6	5	9	8	7	التملك الأقصى ( + + + )