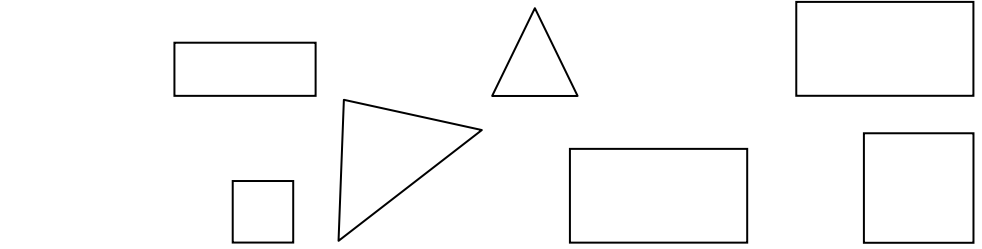
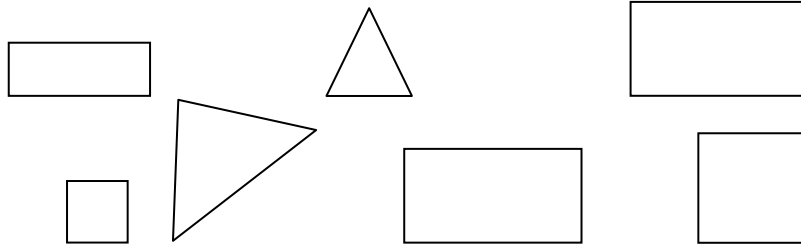


التاريخ :

الرياضيات

1- ألون الأشكال المتشابهة بنفس اللون



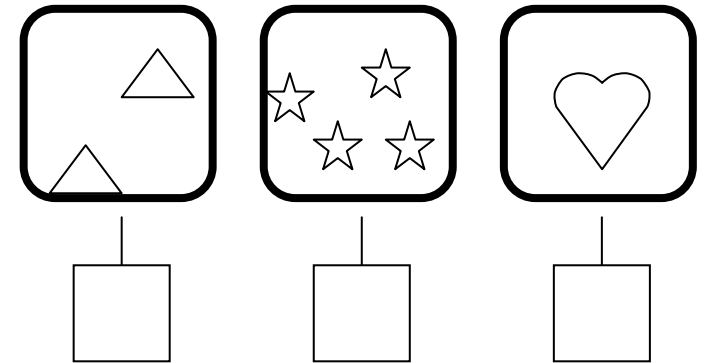
2- ألون السيارة الأولى باللون الأحمر و السيارة الأخيرة باللون الأصفر



2- ألون السيارة الأولى باللون الأحمر و السيارة الأخيرة باللون الأصفر



3- أكتب بالأرقام عدد عناصر كل مجموعة

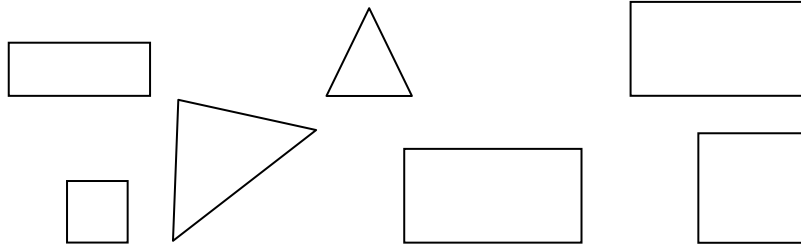


وقفكم الله

التاريخ :

الرياضيات

1- ألون الأشكال المتشابهة بنفس اللون



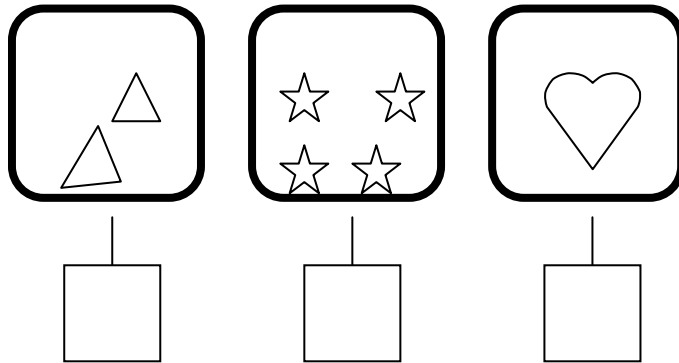
2- ألون السيارة الأولى باللون الأحمر و السيارة الأخيرة باللون الأصفر



2- ألون السيارة الأولى باللون الأحمر و السيارة الأخيرة باللون الأصفر



3- أكتب بالأرقام عدد عناصر كل مجموعة



وقفكم الله