

الأستاذ: فوزي بن نجمة	الفرض التأليفي عدد	السنة الدراسية: 2013-2014
المادة: تاريخ		إعدادية الامتياز: بالمنستير
الاسم واللقب:	القسم: 9 أساسي	الرقم:

القسم الأول (6 نقاط)



1- أكمل الفراغات التالية. (02)

: في سنة 1948 حدث خلاف بين الشرق والغرب، حيث أن الاتحاد السوفييتي قد استولى على شرق ألمانيا وقطع الطريق بين ألمانيا الغربية و (.....) المحاصرة في جوان 1948، فأقام الغرب (.....) لتمويلها، وفي ماي 1949 أعلن الغرب توحيد (.....) في حين أعلن الاتحاد السوفييتي عن قيام دولة (.....).

2- أتبين الشخصيتين. (04)

* ولد سنة 1884 و هو الرئيس الأمريكي الـ 33 منذ 1945 إلى 1952، كان نائب الرئيس روزفلت ' يرتبط اسمه باستخدام القنبلة النووية ضد اليابان سنة 1945. قاوم الشيوعية بمشاريعه الاقتصادية والعسكرية كالحلف الأطلسي سنة 1949.

* من مواليد سنة 1880 ' كاتب الدولة للخارجية الأمريكية في سنة 1947 ' صاحب المشروع الشهير لمساعدة أوروبا المتضررة من الحرب. نال جائزة نوبل للسلام سنة 1953.

.....	
.....	

القسم الثاني (12 نقاط)

" فقرة تأليفية "

. أشرح مظاهر توتر العلاقات الدولية خلال الحرب الباردة باعتماد عناصر التالية.

* أشير إلى دخول العالم مرحلة الحرب الباردة غداة الحرب العالمية الثانية. (02)

* أتعرف إلى عوامل توتر العلاقات الدولية بداية من 1947. (04)

* أبرز مظاهر التوتر (04)

* أذكر الأسباب التي منعت القطبين من المواجهة المباشرة (02)

التحرير

نقطتان لحسن الصياغة والتنظيم

السنة الدراسية: 2013-2014	الفرض التأليفي عدد 2	الأستاذ: فوزي بن نجمة
إعدادية الامتياز: بالمنستير		المادة: تاريخ

الاسم واللقب: القسم: 9 أساسي الرقم:

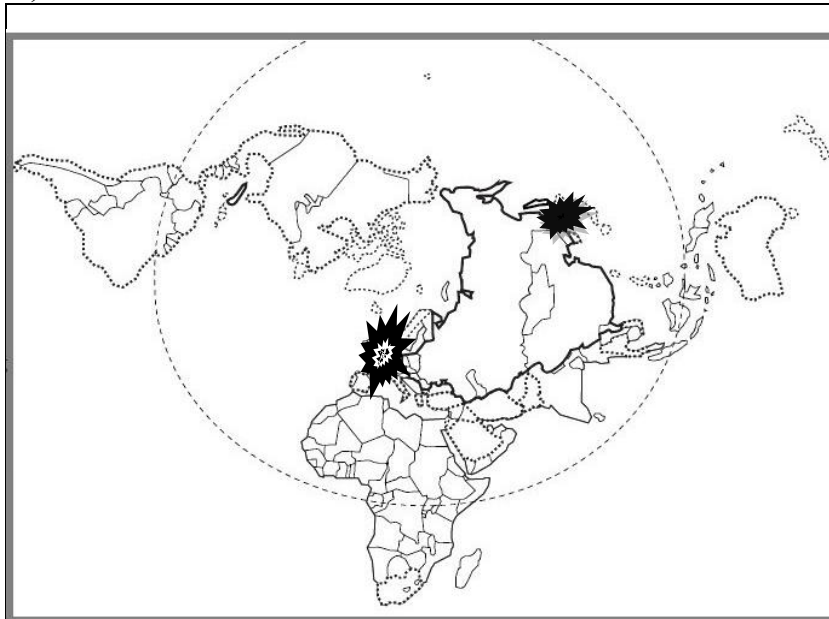
القسم الأول (6 نقاط)

1- اعرّف المصطلح التالية. (02)

..... سياسة الإحتواء.....

..... حلف وارسو.....

2- ألون بالأحمر الدولة المترأسة للكتلة الشرقية خلال الحرب الباردة. وبلون أزرق الدولة المترأسة للكتلة الغربية: (04)



العنوان:

.....

.....

المفتاح:



" شرح وثائق "

القسم الثاني (12 نقاط)

مقتطفات من خطاب تشرشل بجامعة فولتن بالولايات المتحدة الأمريكية

"... وخلف هذا الستار توجد عواصم جميع بلدان أوروبا الشرقية ... وكل هذه المدن المشهورة , وكل هذه الأمم توجد في منطقة التأثير السوفيتي وتخضع كلها بشكل أو بآخر لا فقط لهذا التأثير ولكن أيضا لمراقبة موسكو الشاملة والمتزايدة باستمرار ... لا أظن روسيا (الاتحاد السوفيتي) تريد الحرب بل ترغب في توسع لا محدود لنفوذها ومذهبها.

المصدر. جريدة نيويورك تايمز 6 مارس 1946.

مقتطفات من خطاب الجنرال مارشال بجامعة هارفارد 5 جوان 1947.

... إن حاجيات أوروبا من المواد الأساسية في الثلاث السنوات المقبلة يفوق بكثير إمكانياتها المالية الحالية , لذلك من الواجب تقديم مساعدات إضافية هامة لها , وإلا تعرضت إلى انهيار اقتصادي واجتماعي وسياسي ... إن سياستنا ليست موجهة ضد أي دولة أو أي مذهب , لكنها موجهة ضد المجاعة والفقر واليأس.

المصدر. السابق

أجيب باعتماد النصين وما درست.

1- أقدم الوثيقتين. (02)

2- أبين أهداف السياسة السوفيتية من وجهة نظر "تشرشل" وأعرف المناطق التي أصبحت تحت التأثير السوفيتي (04).

3- أوضح ملامح السياسة التي اتبعتها الولايات المتحدة الأمريكية في مواجهة الاتحاد السوفيتي، مبرزاً التكامل بين نظرية الاحتواء ومخطط مارشال. (04)



4- أحدد تركيبة كل حلف. (02)

نقطتان لحسن الصياغة والتنظيم

الاسم واللقب: القسم: 9 أساسي الرقم:

القسم الأول (6 نقاط)

1- أعرف بالخريطين وبالأزمات التي ارتبطت بها. (02)

.....	
.....	

2- اتمم الجدول الموالي لتقارن بين الكتلة الشرقية والغربية خلال الحرب الباردة. (04)

الكتلة الغربية	الكتلة الشرقية	
		المتراس لها
		مجال نفوذها في أوروبا
		الحلف العسكري المنضوية تحته
		سياستها الاقتصادية

القسم الثاني (12 نقاط)

الموضوع:

انبثق عن الحرب العالمية الثانية وضع عالمي جديد عرف بـ "القطبية الثنائية": أنجز تحريراً متماسكاً، مستعينا بالأسئلة التالية:

- (أ) - أعرف القطبية الثنائية. (02 ن)
- (ب) - أقارن بين الكتلة الشرقية والغربية والوسائل التي اعتمدها كل كتلة لإضعاف الأخرى (04 ن)
- (ج) - أذكر أمثلة صدامها في ألمانيا وفي كوريا. (04 ن)
- (د) - أشير إلى النتيجة التي أسفرت عنها أزمات الحرب الباردة. (02 ن)

الموضوع:

تتباين النطاقات المناخية على مستوى الخصائص والغطاء النباتي ومن بينها النطاق المعتدل. أحرر فقرة انشائية متماسكة متبعا التمشي التالي:

- في المقدمة: أذكر موقع النطاق المعتدل وأصناف مناخاته (02)
- في الجوهر: أبين خصائص النطاق المعتدل وتنوع الغطاء النباتي السائد فيه على اختلاف مناخاته (08)
- في الخاتمة: أمثل بالرسم المناطق الحرارية على سطح الأرض، وأشير الى عدم تشابه حالة الجو بكل الكرة الأرضية (02)

التحرير