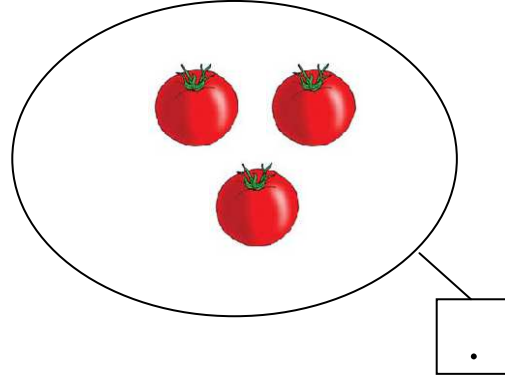
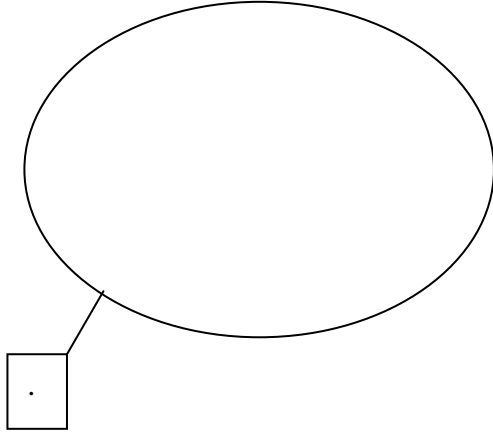


<p>مدرسة بوحسينة 2 عبد السلام الشرفي</p>	<p>تقييم مكتسبات التلاميذ في نهاية الثلاثي الثاني في مادة الرياضيات 2015/ 2014</p>	<p>الإسم:..... اللقب:..... القسم: الأولى</p>
--	--	--

ذَهَبَتْ الأُمُّ إِلَى السُّوقِ لِتَشْتَرِيَ خُضْرًا وَ غِلَالًا
فَاشْتَرَتْ 3 حَبَّاتِ طَمَاطِمٍ وَ فُلْفُلًا أَكْثَرَ مِنَ الطَّمَاطِمِ بـ 1



1
مع 1

أرْسِمْ الفُلْفُلَ وَأَكْتُبِ الأَعْدَادَ فِي اللَافِتَاتِ

أَحْسِبْ مَجْمُوعَ الخُضْرِ

$$\cdot = \cdot + \cdot$$

1
مع 2 أ

$$\cdot > \cdot > \cdot$$

أرْتَبْ أَعْدَادَ العَمَلِيَّةِ مِنَ الأَصْغَرِ إِلَى الأَكْبَرِ

1
مع 2 ب

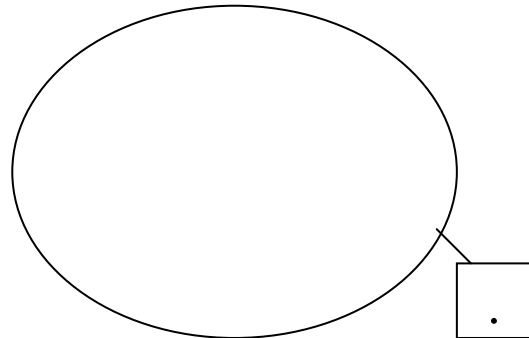
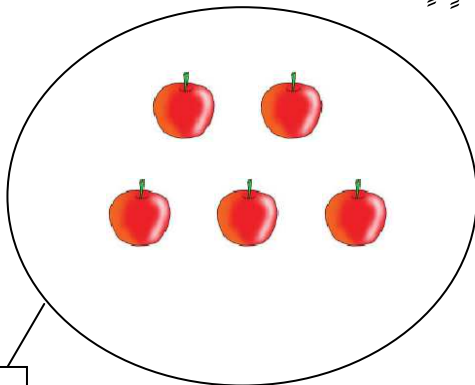
أرْجِعْ لَهَا البَائِعُ هَذِهِ القِطْعَ النَقْدِيَّةِ أَحْسِبْهَا

.....مي



1
مع 3

كَمَا اشْتَرَتْ الأُمُّ 3 مَوْزَاتٍ وَ 5 تَفَاحَاتٍ



1
مع 1

أرْسِمْ المَوْزَاتِ وَأَكْتُبِ الأَعْدَادَ فِي اللَافِتَاتِ



$$\cdot = \cdot + \cdot$$

أَحْسِبْ مَجْمُوعَ الْغِلَالِ

1

مع 2

$$\cdot < \cdot < \cdot$$

أُرْتَبِّ أَعْدَادَ الْعَمَلِيَّةِ مِنَ الْأَكْبَرِ إِلَى الْأَصْغَرِ

1


مع 2

أَرْجِعْ لَهَا الْبَائِعُ 8 مِي أَمْتَلِّهَا

8 مِي

1

مع 3



رَأَتْ الْأُمُّ بَائِعَ الْبَالُونَاتِ فَاشْتَرَتْ بَالُونَاتٍ

أَكْتَبْ عَدَدَ الْبَالُونَاتِ فِي يَدِهِ الْيُسْرَى =

1

مع 1

أَكْتَبْ عَدَدَ الْبَالُونَاتِ فِي يَدِهِ الْيُمْنَى =

$$\cdot = \cdot + \cdot$$

أَحْسِبْ مَجْمُوعَ الْبَالُونَاتِ

1

مع 2

.....

أُرْتَبِّ أَعْدَادَ الْعَمَلِيَّةِ مِنَ الْأَكْبَرِ إِلَى الْأَصْغَرِ

1

مع 2

أَرْجِعْ لَهَا الْبَائِعُ هَذِهِ الْقِطْعَ النَّقْدِيَّةَ أَكْمَلْ لِيُصْبِحَ الْمَبْلَغُ 6 مِي

6 مِي



1

مع 3

كَانَ ثَمَنُ الْبَالُونِ 7 مِي أَمْتَلِّ هَذَا الْمَبْلَغَ بِأَرْبَعِ طُرُقٍ مُخْتَلِفَةٍ

7 مِي	7 مِي	7 مِي	7 مِي

4

مع 5

الحساب الذهني 4 نقاط

